

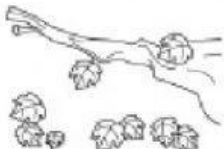
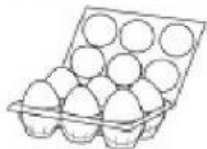



- 1 GUARDA IL DISEGNO E LEGGI LA DOMANDA, POI COMPLETA L'OPERAZIONE. OSSERVA L'ESEMPIO.

PRIMA	DOPO	
		<p>QUANTI GATTINI SONO RIMASTI NEL CESTO?</p> <p><u>5</u> - <u>2</u> = <u>3</u></p>

PRIMA	DOPO	
		<p>QUANTE CAMELLE SONO RIMASTE NEL SACCHETTO?</p> <p>_____ - _____ = _____</p>

PRIMA	DOPO	
		<p>QUANTE FOGLIE SONO RIMASTE SUL RAMO?</p> <p>_____ - _____ = _____</p>

PRIMA	DOPO	
		<p>QUANTE UOVA SONO RIMASTE INTERE?</p> <p>_____ - _____ = _____</p>