



| | | | |
|-----------------------------------------------------------------------------------|---------------------------------------------------------------------------------------------------------------------|---------|--------------------------|
|  | UNIDAD EDUCATIVA LICEO EMPRESARIAL | | Año Lectivo 2020-2021 |
| EVALUACIÓN SEGUNDO QUIMESTRE | | | |
| Nombre del Alumno: | | | |
| Área y Asignatura: | Nombre del Docente: | EGB | Fecha: |
| Relación lógico matemática | Lcda. Alexandra Chulca | INICIAL | |
| Frase Motivadora: | "Libre para empezar, eso que hay empezar, libre para lograrlo o sólo dejarlo en un lindo plan" Leonel García | | Calificación |


1. Cuenta y selecciona el número correcto



5

3

4





5

4

8

2. Ordena los números






Activar V
Ve a Config

COMPLETA LOS NUMEROS QUE FALTAN

| | | | | | | | | | | |
|--|----------|--|----------|--|----------|--|----------|--|----------|--|
| | 1 | | 3 | | 5 | | 7 | | 9 | |
|--|----------|--|----------|--|----------|--|----------|--|----------|--|

Realiza la suma de acuerdo los puntos del domino



$$\boxed{4} + \boxed{6} = \boxed{10}$$



$$\boxed{} + \boxed{} = \boxed{}$$

$$\boxed{} + \boxed{} = \boxed{}$$

2.- Realiza la siguiente secuencia mira el patrón



3.- Une según corresponda la figura geométrica



3. Realiza la siguiente sumas

