



SUMAS. Números hasta el 10.

Cuenta y completa.



3 y son .

+ =




y son .

+ =



y son .

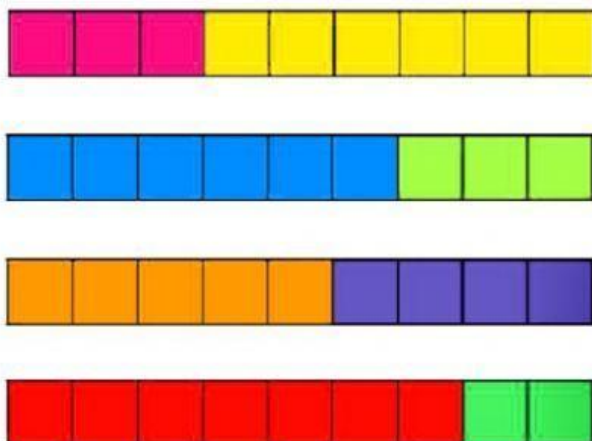
+ =



y son .

+ =

Cuenta y completa.



► + =

► + =

► + =

► + =

Resuelve este problema y escribe cuántos barcos hay al final.



Había 4  + =

Pone  Al final, hay 

Al final hay barcos.