

NOME

PROFESSORA

1º ANO

DATA

## SUBTRAÇÃO DAS MAÇÃS


CONTE QUANTAS MAÇÃS TEM, TIRE O QUE ESTÁ PEDINDO E ESCREVA O RESULTADO.



$5 - 2 = \underline{\quad}$



$3 - 2 = \underline{\quad}$



$4 - 1 = \underline{\quad}$



$3 - 1 = \underline{\quad}$









$5 - 1 = \underline{\quad}$

























FAÇA UM X NO QUE VAI SER TIRADO, CONTE O QUE SOBROU E ESCREVA O RESULTADO.

$5 - 2 =$ _____	
$3 - 2 =$ _____	
$4 - 1 =$ _____	
$3 - 1 =$ _____	
$5 - 1 =$ _____	
$4 - 2 =$ _____	

COMPLETE O QUADRINHO COM O RESULTADO DA SUBTRAÇÃO.



				<input data-bbox="1193 640 1406 846" type="text"/>
				<input data-bbox="1193 904 1406 1111" type="text"/>
				<input data-bbox="1193 1173 1406 1379" type="text"/>
				<input data-bbox="1193 1447 1406 1653" type="text"/>
				<input data-bbox="1193 1711 1406 1917" type="text"/>