



**EVALUACIÓN DE:**

Biología

FECHA

/ / 2021

ESTUDIANTE:

Apellidos

Nombres

CLAVE:

CATEDRÁTICO: Marta Leticia Juarez López

6to perito en Electrónica

Valor total 25 puntos

### I serie 10 puntos

**Instrucción:** lee detenidamente las siguientes aseveraciones y escribe una F si la respuesta es falsa y una V si la respuesta es verdadera

1. El núcleo celular está rodeado por una envoltura nuclear.....( F ) ( V )
2. Thomas Alva Edison es el científico norteamericano que diseñó la bombilla eléctrica tal como la conocemos hoy.....( F ) ( V )
3. La formulación de hipótesis es la parte en la que el investigador genera una suposición que posteriormente será confirmada o rechazada.....( F ) ( V )
4. Para hacer una investigación solo necesitamos hacer una serie de experimentos sin tomar en cuenta el método científico.....( F ) ( V )
5. El citoplasma es el núcleo de la célula animal.....( F ) ( V )

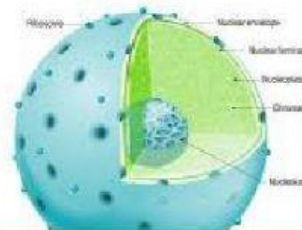
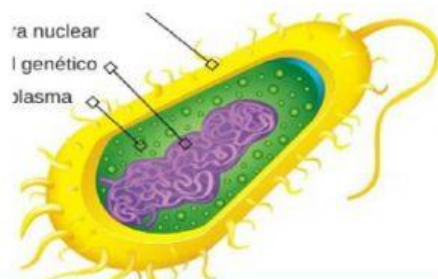
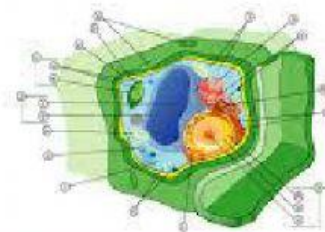
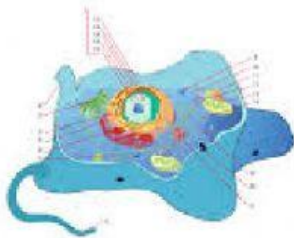
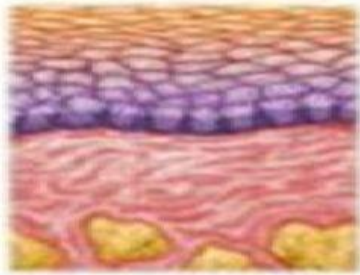
### II serie 5 puntos

**Instrucción.** Une con una línea la definición correcta de cada uno de los conceptos que se presentan en el siguiente cuadro.

<ul style="list-style-type: none"><li>• Función protectora de las hojas y los tallos jóvenes</li></ul>	<b>ORGANISMO</b>
<ul style="list-style-type: none"><li>• Grupo de células del mismo tipo</li></ul>	<b>TEJIDO</b>
<ul style="list-style-type: none"><li>• Estructura compuesta de uno o más tipos de tejido.</li></ul>	<b>TEJIDO EPIDERMICO</b>
<ul style="list-style-type: none"><li>• Son aquellos que se encuentran en las plantas</li></ul>	<b>TEJIDOS VEGETALES</b>
<ul style="list-style-type: none"><li>• Ser vivo individual que puede estar compuesto por uno o más sistemas orgánicos.</li></ul>	<b>ORGANOS</b>

III serie 5 puntos

**Instrucción:** identifica y coloca el nombre de cada imagen donde corresponda.



**TEJIDO EPITELIAL**

**ORGANISMO PLURICELULARES**

**CELULA PROCARIOTA**

**CELULA ANIMAL**

**TEJIDO NERVIOSO**

**CELULA VEGETAL**

**NUCLEO CELULAR**

**CELULA PROCARIOTA**

**III serie 5 puntos**

**Instrucción:** dibuja la célula vegetal identificando sus partes

