

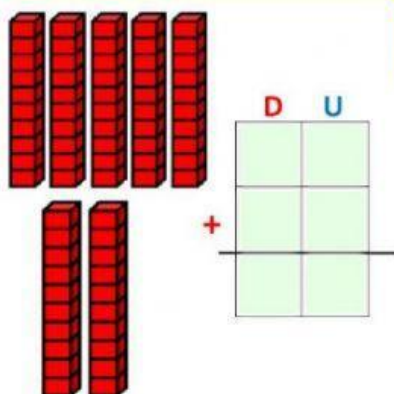
Evaluación de Matemáticas.

Decenas puras.

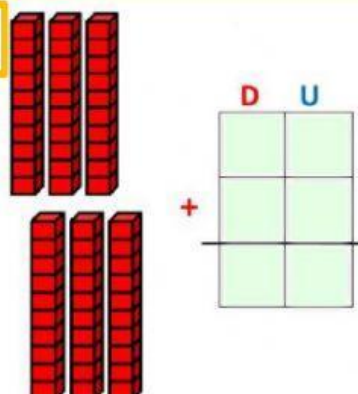
Nombre _____ Curso: 2 básico Fecha: _____

1.- Resuelve las siguientes operaciones usando las decenas, luego escribe la opresión hacia abajo.

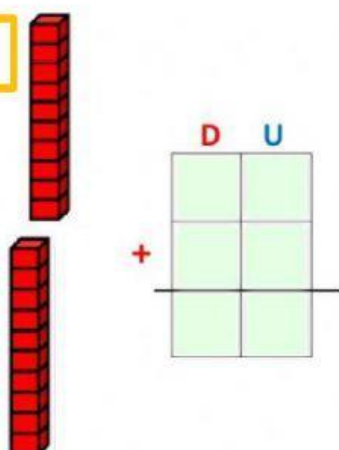
1



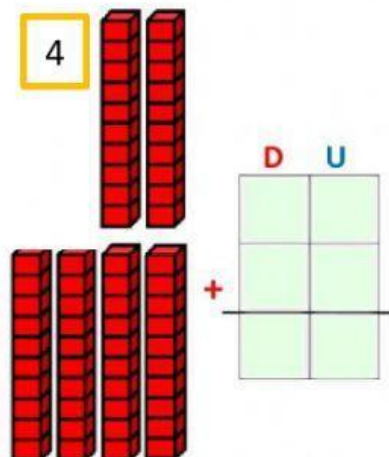
2



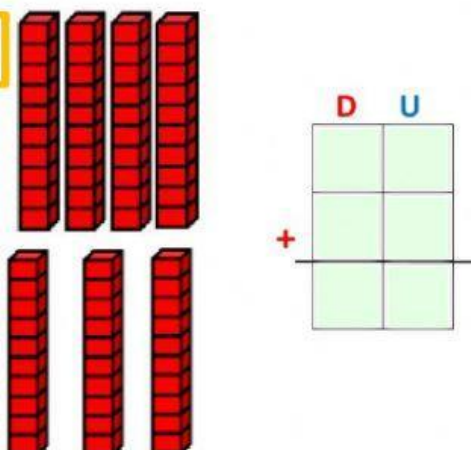
3



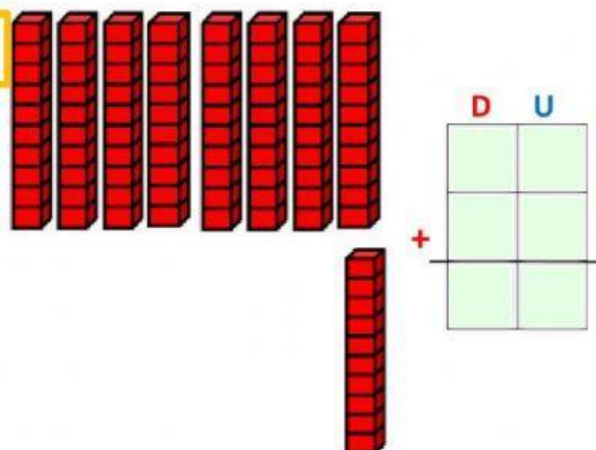
4



5

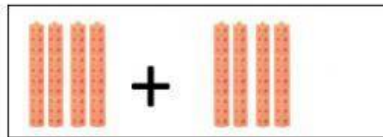


6



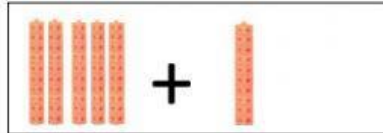
2.- Une cada operación con su representación correcta, luego únela con el resultado correcto.

$$30 + 20$$



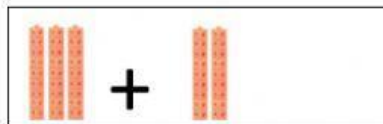
$$20$$

$$60 + 30$$



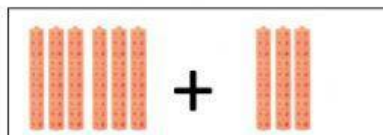
$$50$$

$$10 + 10$$




$$90$$

$$50 + 10$$



$$60$$

$$40 + 40$$



$$80$$

3.- Resuelves los siguientes problemas.

Carolina tiene 20 manzanas y su mamá le dio 50 manzanas más, ¿Cuántas manzanas juntó en total?

Datos	Razonamiento	Operación	Respuesta
<div></div> <div></div> <div></div> <div></div>	<p>Tengo que hacer una</p> <div></div>	<div> <div>D</div> <div>U</div> </div> <div> <div></div> <div></div> <div></div> <div></div> </div> <div>+</div> <div></div>	<div></div> <div></div>

Anita y Juan son primos, Anita compro 50 calugas y Juan ya tenía 30 calugas, ¿Cuántas calugas juntaron entre los dos?

Datos	Razonamiento	Operación	Respuesta
<div></div>	Tengo que hacer una	D U	<div></div>
<div></div>	<div></div>	+	<div></div>
<div></div>		<div></div>	
<div></div>		<div></div>	
<div></div>		<div></div>	

4.- Ordena arrastrando las decenas en el castillo, comienza desde el 90.

