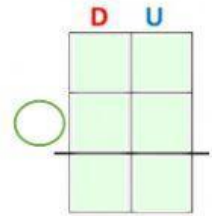

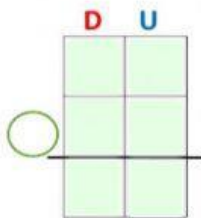

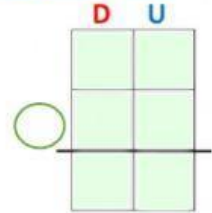
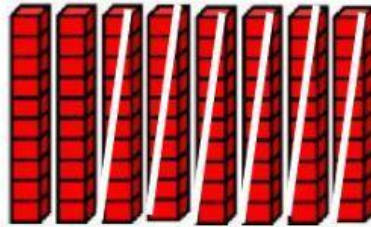
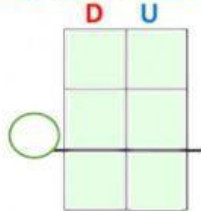


Evaluación de Matemáticas. Restas de decenas.

Nombre _____ Curso: 2 básico Fecha: _____

1.- Resuelve las siguientes operaciones usando las decenas, luego escribe la operación según corresponda.



2.- Une cada operación con su representación y después con su resultado.

30

—

10

50




—

40

70

—

20



10

20

50

3.- Resuelve estos problemas según los hemos estudiado.

1.- Antonia y José son hermanos, Antonia tenía 90 palitos y le regaló 30 palitos a José, ¿Cuánto palitos le quedaron a Antonia?

Datos	Razonamiento	Operación	Respuesta
<div style="border: 1px solid black; width: 40px; height: 20px; margin-bottom: 5px;"></div> <div style="border: 1px solid black; width: 40px; height: 20px; background-color: #d4edda; margin-bottom: 5px;"></div> <div style="border: 1px solid black; width: 40px; height: 20px; margin-bottom: 5px;"></div> <div style="border: 1px solid black; width: 40px; height: 20px; background-color: #d4edda;"></div>	Tengo que hacer una <div style="border: 1px solid black; width: 150px; height: 30px; margin-top: 10px;"></div>	<div style="text-align: center;"> D U </div> <div style="display: flex; align-items: center; justify-content: center; margin-top: 10px;"> <div style="border: 1px solid black; width: 20px; height: 20px; border-radius: 50%; margin-right: 10px;"></div> <div style="display: flex; flex-direction: column; align-items: center;"> <div style="border: 1px solid black; width: 40px; height: 20px; background-color: #d4edda; margin-bottom: 5px;"></div> <div style="border: 1px solid black; width: 40px; height: 20px; background-color: #d4edda; margin-bottom: 5px;"></div> <div style="border: 1px solid black; width: 40px; height: 20px; background-color: #d4edda; margin-bottom: 5px;"></div> <div style="border: 1px solid black; width: 40px; height: 20px; background-color: #d4edda;"></div> </div> </div>	<div style="border: 1px solid black; width: 120px; height: 20px; margin-bottom: 10px;"></div> <div style="display: flex; align-items: center; justify-content: center;"> <div style="border: 1px solid black; width: 20px; height: 20px; background-color: #d4edda; margin-right: 5px;"></div> <div style="border: 1px solid black; width: 20px; height: 20px; background-color: #d4edda;"></div> </div>

2.- Marisol tiene \$ 50 pesos y le dio \$20 pesos a su hermano Gabriel. ¿Cuánto dinero que quedó a Marisol?

Datos	Razonamiento	Operación	Respuesta
<div style="border: 1px solid black; width: 40px; height: 20px; margin-bottom: 5px;"></div> <div style="border: 1px solid black; width: 40px; height: 20px; background-color: #d4edda; margin-bottom: 5px;"></div> <div style="border: 1px solid black; width: 40px; height: 20px; margin-bottom: 5px;"></div> <div style="border: 1px solid black; width: 40px; height: 20px; background-color: #d4edda;"></div>	Tengo que hacer una <div style="border: 1px solid black; width: 150px; height: 30px; margin-top: 10px;"></div>	<div style="text-align: center;"> D U </div> <div style="display: flex; align-items: center; justify-content: center; margin-top: 10px;"> <div style="border: 1px solid black; width: 20px; height: 20px; border-radius: 50%; margin-right: 10px;"></div> <div style="display: flex; flex-direction: column; align-items: center;"> <div style="border: 1px solid black; width: 40px; height: 20px; background-color: #d4edda; margin-bottom: 5px;"></div> <div style="border: 1px solid black; width: 40px; height: 20px; background-color: #d4edda; margin-bottom: 5px;"></div> <div style="border: 1px solid black; width: 40px; height: 20px; background-color: #d4edda; margin-bottom: 5px;"></div> <div style="border: 1px solid black; width: 40px; height: 20px; background-color: #d4edda;"></div> </div> </div>	<div style="border: 1px solid black; width: 120px; height: 20px; margin-bottom: 10px;"></div> <div style="display: flex; align-items: center; justify-content: center;"> <div style="border: 1px solid black; width: 20px; height: 20px; background-color: #d4edda; margin-right: 5px;"></div> <div style="border: 1px solid black; width: 20px; height: 20px; background-color: #d4edda;"></div> </div>

4.- Descubre el número incognito para resolver la operación.

$$90 - \square = 30$$

$$50 - 10 = \square$$

$$\square - 20 = 20$$

$$80 - \square = 40$$