




**COLEGIO MIXTO SANTA ELENA DE SUR
PRIMERO PRIMARIA
HOJA DE TRABAJO MEDIO SOCIAL
DOCENTE BEVERLY REYES**

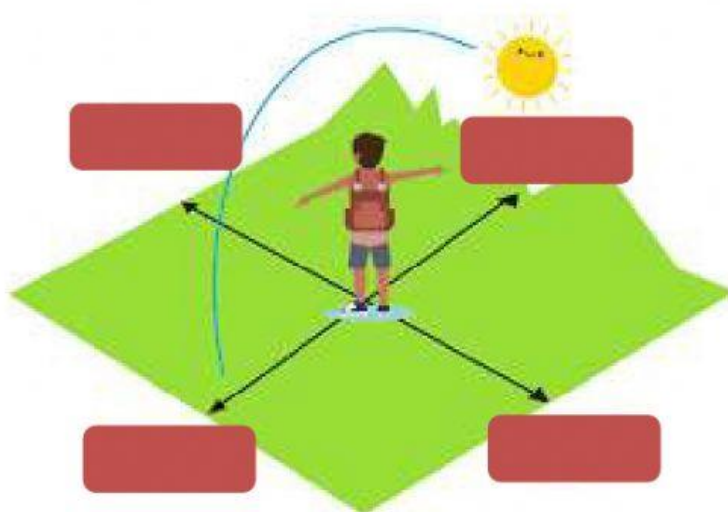


Nombre: Fecha:

Ejercicio 1: Escriba el nombre de los hechos geográficos que aparecen en la imagen

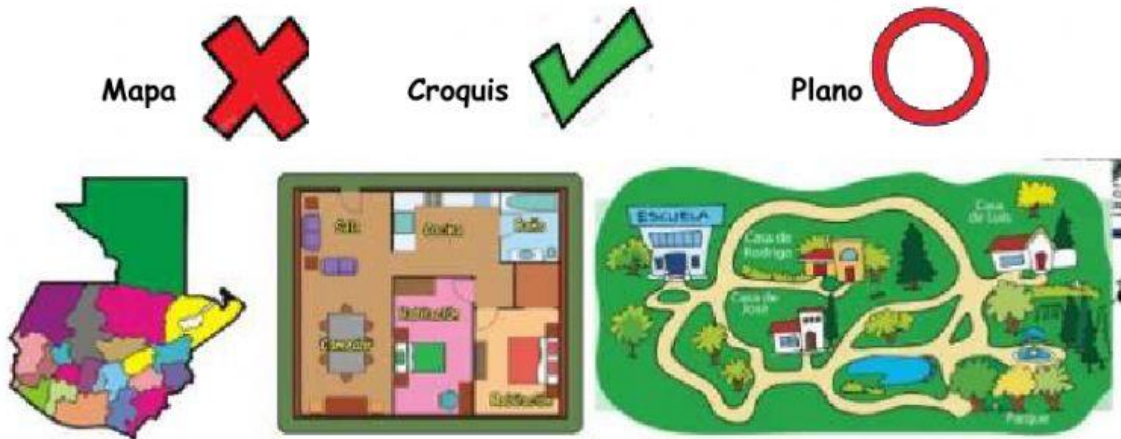


Ejercicio 2: Coloque los puntos cardinales en donde corresponden.
Recuerde que el sol siempre sale en el ESTE



- NORTE**
- SUR**
- ESTE**
- OESTE**

Ejercicio 3: Marque los dibujos que sirven para ubicar lugares y guiar a las personas. Observe las claves y lleve cada una a donde corresponde.



Ejercicio 4: Coloque el nombre de cada recurso natural que aparece en la imagen.

Recursos Naturales

