




ELABORACIÓN DE MATERIAL ACADÉMICO



Código: 2.2-FT-EMA

Versión 1

Vigencia: NOV. 2018

Revisado: FEB 2020

Página 1 de 3

ÁREA: Matemáticas GRADO: tercero

PROFESOR: Lady marcela Correa O

1. Escribir los números según el Orden de los siguientes números de mayor a menor, no escribir el punto decimal

1486, 14508, 20567, 23900, 9990, 910, 15250, 5300

> > > > > > >

2. Realiza la escritura en letras de los siguientes números:

a. 7234=.....

b. 51889

c. 323609

3. Escribir el número correspondiente:

a. Ciento cuarenta y ocho.....

b. Mil doscientos cuarenta y tres

c. Ciento un mil dos

Según el dibujo responder:



4. Que operación se debe hacer para saber la edad de los tres amigos:

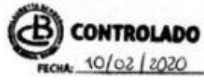
5. Realiza la operación y di ¿Cuánto suma la edad de los tres amigos?

+
+

Respuesta: _____



ELABORACIÓN DE MATERIAL ACADÉMICO



Código: 2.2-FT-EMA

Versión
1

Vigencia:
NOV. 2018

Revisado: FEB 2020

Página 2 de 3

6. Unir la representación gráfica con su escritura.



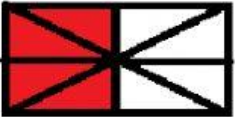
$$\frac{4}{8}$$



$$\frac{1}{2}$$



$$\frac{3}{6}$$



$$\frac{2}{4}$$

7. Realizar la operación con su respuesta

$$\frac{4}{8} + \frac{3}{8}$$

$$\frac{6}{6}$$

$$\frac{1}{2} \times \frac{4}{5}$$

$$\frac{1}{8}$$

$$\frac{3}{6} / \frac{1}{2}$$


$$\frac{3}{6}$$

$$\frac{7}{8}$$

$$\frac{4}{10}$$



ELABORACIÓN DE MATERIAL ACADÉMICO



Código: 2.2-FT-EMA

Versión 1

Vigencia: NOV. 2018

Revisado: FEB 2020

Página 3 de 3

8. Según el siguiente diagrama de barras completar la tabla de datos



Mascotas	cantidad
perros	
gatos	
pájaros	
peces	
total	

9. Según el pictograma completar la tabla de datos:



Lugares	cantidad
zoológico	
parque	
Cine	
Circo	
museo	
total	

10. Según el pictograma y tabla de datos anterior el lugar preferido para pasear que indica la moda muestral es: _____