

**LEMBAR KERJA PESERTA DIDIK  
LKPD**

**KELAS III SEMESTER 2**

**TEMA 8 (PRAJA MUDA KARANA)  
SUBTEMA 3 (AKU SUKA BERTUALANG)  
PEMBELAJARAN 6**




**OLEH :**

**NI PUTU MITA ARDANI**

**201503199826**

**PPG DALJAB ANGKATAN I**

**TAHUN 2021**



### A. Tujuan Kegiatan

1. Peserta didik dapat mengidentifikasi lambang atau simbol rambu lalu lintas dengan benar.
2. Peserta didik dapat menceritakan pengalaman mengamalkan makna simbol lalu lintas dengan benar.
3. Peserta didik dapat mengidentifikasi data terkait makanan tradisional yang disajikan dalam diagram gambar dengan benar
4. Peserta didik dapat menyimpulkan data terkait makanan tradisional yang disajikan dalam diagram gambar dengan benar.
5. Peserta didik dapat mengidentifikasi arti "Bhineka Tunggal Ika" pada gambar pita pada lambang negara "Garuda Pancasila" dengan benar.
6. Peserta didik dapat mengidentifikasi rumah dan pakaian adat Nusantara dengan benar.
7. Peserta didik dapat menceritakan arti teks Bhineka Tunggal Ika pada gambar pita yang terdapat pada lambang negara "Garuda Pancasila" dalam perilaku sehari-hari dengan benar





## B. Petunjuk Kegiatan

1. Tulislah nama dan nomor absen pada kolom yang telah disediakan!
2. Siapkan alat dan bahan yang diperlukan!
3. Bacalah setiap petunjuk yang terdapat pada LKPD!
4. Kerjakan soal pada LKPD sesuai dengan langkah-langkah kegiatan!
5. Periksa kembali jawabanmu apabila telah selesai di kerjakan!
6. Setelah selesai, LKPD dikirim melalui *WhatsApp* group dan link!

# KEGIATAN 1

## a. Alat / Bahan



1. Laptop atau *Smartphone*.



### b. Langkah-langkah Kegiatan

1. Identifikasilah simbol rambu lalu lintas di bawah ini dengan cara menarik garis sesuai dengan contoh kejadian saat berkendara!



Ayah melakukan perjalanan ke Singaraja. Ketika berada di puncak, ayah selalu waspada karena sering terjadi tanah longsor.



Ayah Boni kehabisan bensin saat perjalanan menuju kampung halaman. Ayah Boni mengisi bensin di SPBU terdekat.



Terjadi kecelakaan saat Dayu diantar ke sekolah oleh Pamannya. Paman Dayu kemudian menolong korban dan dibawa ke Rumah Sakit terdekat.




Siti dan Intan pergi ke Mall. Saat hendak parkir, Siti ditegur oleh Satpam karena melanggar rambu lalu lintas yang ada di mall tersebut.



Ibu ingin membeli tas yang berlokasi di seberang jalan. Tetapi, dia tidak diizinkan memutar balik oleh polisi yang berjaga dan diharapkan menaati rambu lalu lintas.

2. Perhatikan gambar di bawah ini!



Ceritakanlah dengan singkat kegiatan yang bisa kamu lihat pada gambar di atas di kolom di bawah ini!

A large, light blue rectangular area with rounded corners, containing horizontal lines for writing.



## KEGIATAN 2



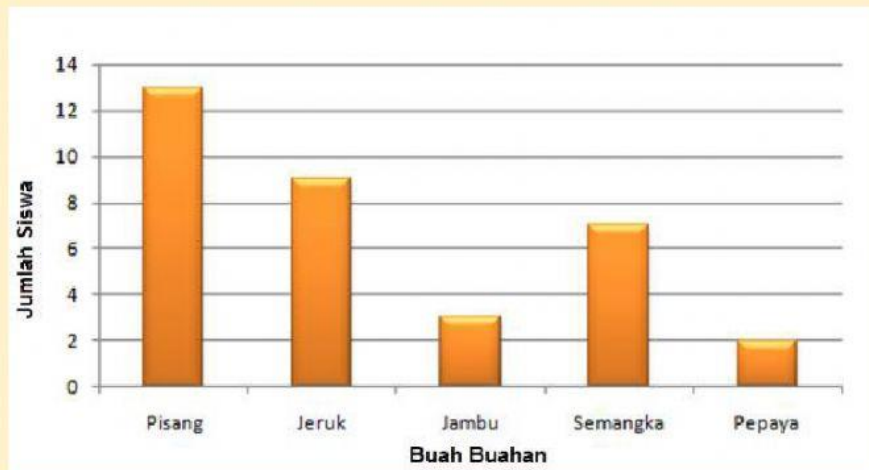
### a. Alat / Bahan

1. Laptop atau *Smartphone*.



### b. Langkah-langkah Kegiatan

1. Perhatikan diagram di bawah ini dan jawablah soal di bawahnya!



1. Berapa banyak siswa yang menyukai jambu?

2. Berapa banyak anak yang menyukai jeruk?

3. Apa nama buah yang paling banyak disukai?

4. Berapa nama kue yang paling sedikit disukai?

5. Buah apa yang jumlah peminatnya sama?

2. Buatlah kesimpulan dari data yang disajikan dalam diagram!  
Buatlah dengan kalimat sendiri dan tulislah pada kolom di bawah ini!

Area for writing conclusions, consisting of 15 horizontal lines.

## KEGIATAN 3

**a. Alat / Bahan**



1. Laptop atau Smartphone.



## b. Langkah-langkah Kegiatan

1. Perhatikan gambar di bawah ini!



Ceritakanlah dengan singkat kegiatan yang bisa kamu lihat pada gambar di atas dengan Bahasa sendiri di kolom di bawah ini!

Blank lined area for writing the description of the activity shown in the picture.



2. Letakkan rumah adat dan pakaian adat Nusantara di bawah ini sesuai dengan asal daerahnya dengan cara menarik gambar ke dalam kolom yang disediakan!



Sulawesi Selatan	
Sumatera Barat	
Papua	