
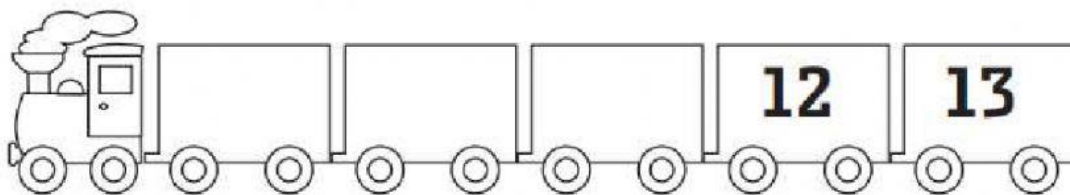


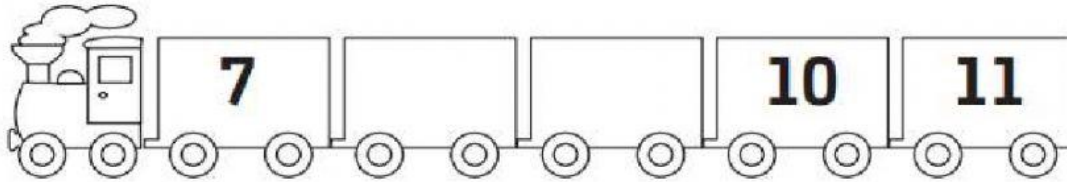







EVALUACIÓN MATEMÁTICA

Completa y escribe los números que faltan en cada carril. (1 punto cada una)


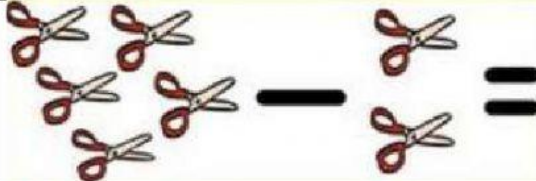
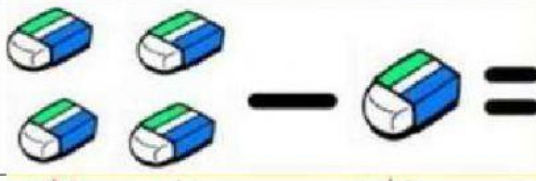




Cuenta y resta, sigue el ejemplo: (1 punto cada una)

 $10 - 2 = 8$	 $10 - 3 = \square$	 $10 - 4 = \square$
---	---	--



Indica el resultado de las siguientes restas: (1 punto cada una)

	<input type="text"/>
	<input type="text"/>
	<input type="text"/>
	<input type="text"/>
	<input type="text"/>

Realiza los siguientes ejercicios de restas: (1 punto cada una)

$9 - 4 = \square$	$15 - 0 = \square$
$12 - 10 = \square$	$20 - 10 = \square$
$3 - 3 = \square$	$8 - 6 = \square$




Resuelve los siguientes ejercicios y escribe la resta, sigue el ejemplo: (1 punto cada una)

Hay 5 peras y me como 2 ¿Cuántas quedan?




$$5 - 2 = \square$$

Tengo 10 mariquitas y se vuelan 7 ¿Cuántas quedan?



$$\square - \square = \square$$

Hay 6 quequitos y me como 2 ¿Cuántas quedan?




$$\square - \square = \square$$

Hay 10 galletas y me como 3 ¿Cuántas quedan?



$$\square - \square = \square$$

Tengo 8 flores y le regalo 5 a mamá ¿Cuántas quedan?



$$\square - \square = \square$$

