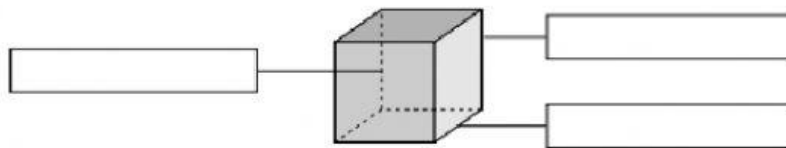


SEMANA DEL 20 AL 24 DE ABRIL MATEMÁTICAS SEXTO

24 abril repaso

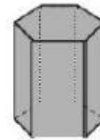
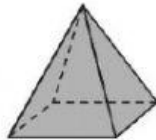
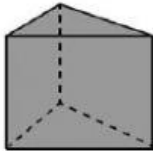
Nombre

Escribe el nombre de los elementos de este poliedro. Después, contesta.



¿Es un poliedro regular? ¿Por qué?

Clasifica cada cuerpo.



Calcula el área de la siguiente figura.

