

Usa las razones trigonométricas o el teorema de Pitágoras para calcular el área de cada figura.

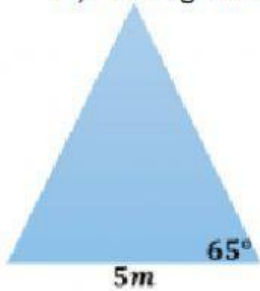
a) Triángulo equilátero



Altura:

Área:

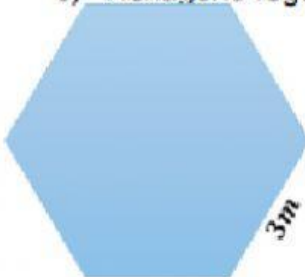
b) Triángulo isósceles



Altura:

Área:

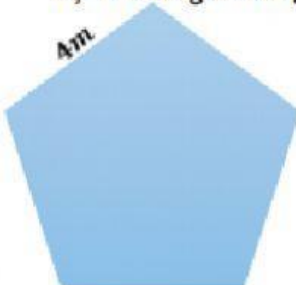
c) Hexágono regular



Apotema:

Área:

d) Pentágono regular



Apotema:

Área: