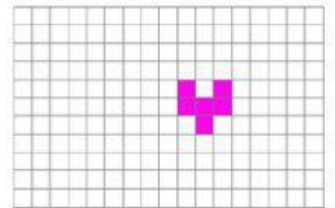
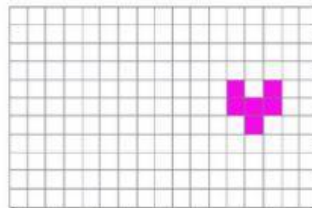
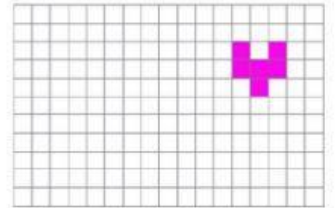
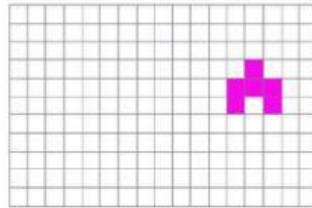
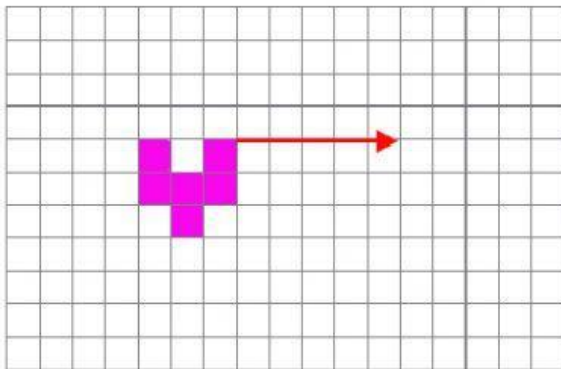


# GEOMETRÍA Y ORIENTACIÓN EN EL PLANO 2

1. ¿Qué dibujo resulta al aplicar la traslación que indica la flecha?.

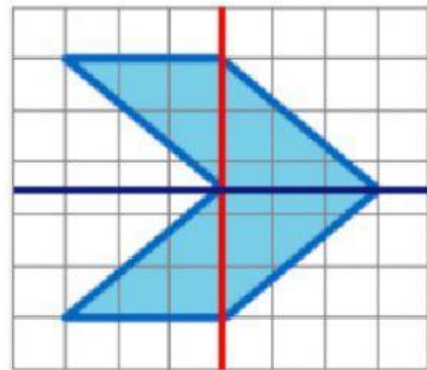


2. Observa la figura y responde.

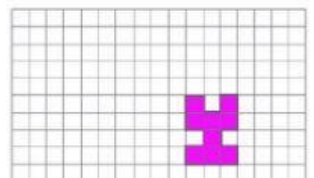
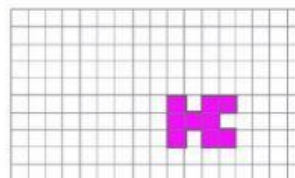
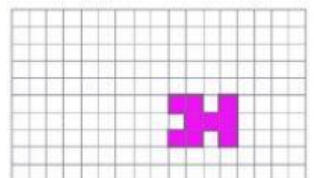

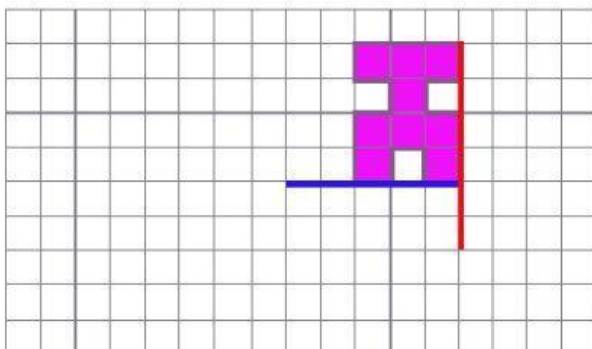
a) ¿Es la figura azul simétrica?

b) ¿Es la línea roja un eje de simetría?

c) ¿Es la línea azul un eje de simetría?



3. ¿Cuál de las siguientes figuras es la simétrica respecto del eje azul?



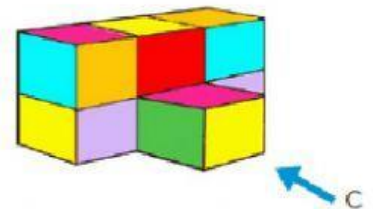

4. Observa el mapa y contesta.

- ¿Qué hay en el punto (3,2)?
- ¿En qué punto del plano está el restaurante?
- ¿Qué hay en el punto (3,6)?
- ¿En qué punto del plano está la piscina pentagonal?



5. Puntos de vista.

- ¿Cuál de los siguientes dibujos representa esta figura desde el punto de vista C?



- Relaciona cada torre con su vista desde arriba

