

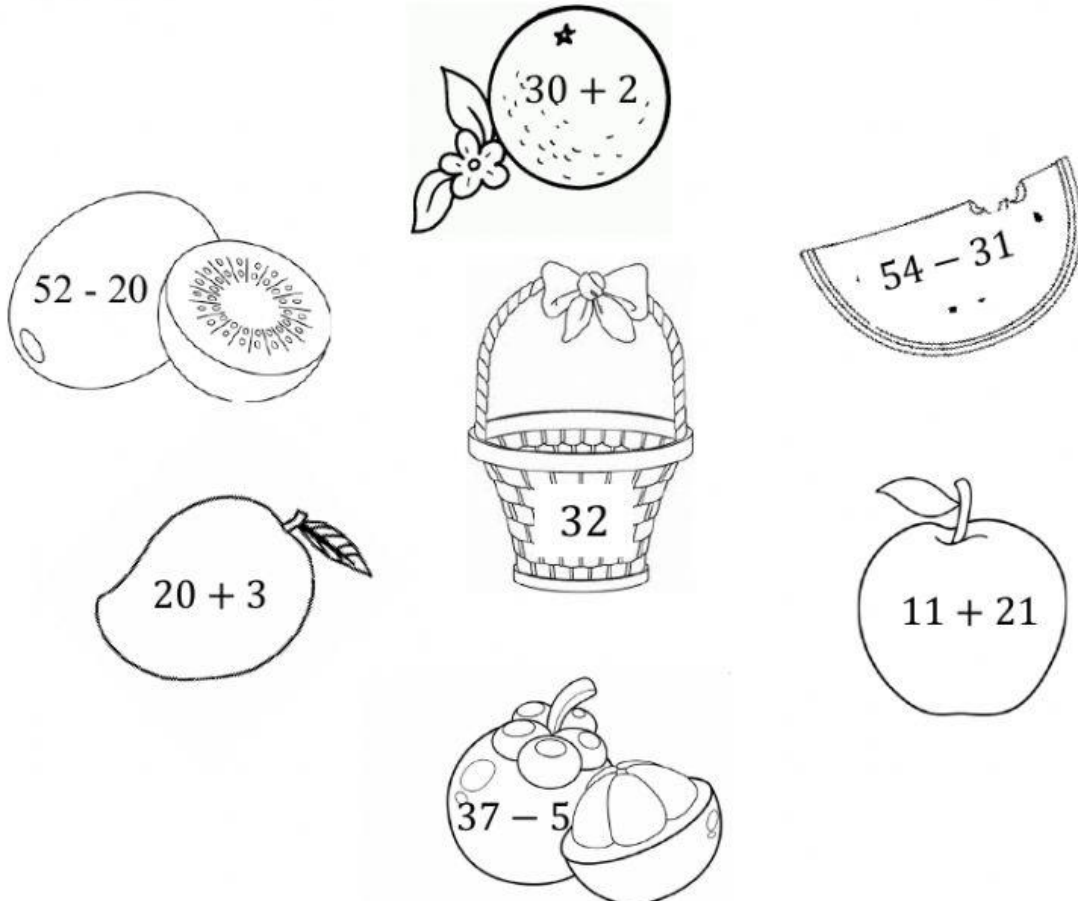


Họ và tên: _____

Lớp: _____ Ngày: ____ / ____ / ____

Phiếu số 3 – Luyện tập phép cộng/ trừ không nhớ phạm vi 100

1. Chọn phép tính có kết quả bằng 32.



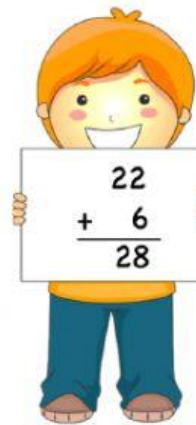
2. Ba bạn: An, Hà, Mai thực hiện phép tính.

Hãy tìm bạn thực hiện phép tính chưa đúng.

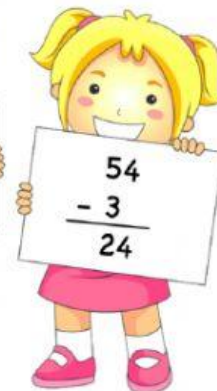
An

Hà


Mai



An



Hà



Mai



3. Chọn đáp án đúng.

Cửa hàng có 35 con thú bông.

Cửa hàng lấy thêm 23 con thú bông.

Hỏi cửa hàng có tất cả bao nhiêu con thú bông?



12 con thú bông

58 con thú bông

85 con thú bông

	Tens	Ones
<input type="checkbox"/>		

4*. Chọn 3 số dưới đây, sau đó viết các phép tính.



+ =

+ =

- =

- =