

Perímetro de la circunferencia y área del círculo







- Calcula el valor del perímetro de la circunferencia y el área del círculo, utiliza la fórmula que prefieras para hallar la longitud de la circunferencia.

$$P = 2 \pi r$$

$$P = \pi d$$

Utiliza el valor de π

$$\pi = 3,14$$

	
LC= AC=	LC= AC=
	
LC= AC=	LC= AC=
	
LC= AC=	LC= AC=