

NOME: \_\_\_\_\_

DATA: \_\_\_\_\_

PROFESSORA ADRIANA LOPES - 1º ANO - TURMA 102


**1** OBSERVE A TIRINHA E RESPONDA.

**A** QUE ASTRO O CEBOLINHA DESENHOU?

**B** COMO CHAMAMOS O MOVIMENTO DO SOL NO CÉU? MOVIMENTO...

**C** DURANTE O DIA OBSERVAMOS NO CÉU O SOL. JÁ A NOITE, O QUE PODEMOS VER NO CÉU?

**A** \_\_\_\_\_ E AS \_\_\_\_\_



**2** LEIA ALGUMAS INFORMAÇÕES SOBRE O SOL E DEPOIS COMPLETE AS FRASES ABAIXO.

O SOL É A FONTE DE LUZ E DE VIDA.

É A ESTRELA MAIS PRÓXIMA DA TERRA.

TODOS OS PLANETAS DO SISTEMA SOLAR GIRAM AO SEU REDOR.

ELE É O RESPONSÁVEL PELO SUPRIMENTO DE ENERGIA DA MAIORIA DOS PLANETAS.

POR TER TANTA ENERGIA E PROPORCIONAR CALOR INTENSO, DEVEMOS NOS PROTEGER DE ALGUNS RAIOS SOLARES QUE NOS CAUSAM DOENÇAS.



**A** O SOL É FONTE DE \_\_\_\_\_ E DE \_\_\_\_\_.

**B** O SOL É A ESTRELA MAIS PRÓXIMA DA \_\_\_\_\_.


**C** TODOS OS \_\_\_\_\_ DO SISTEMA SOLAR \_\_\_\_\_ AO REDOR DELE.

**D** O PLANETA QUE NÓS HABITAMOS É A \_\_\_\_\_.


- 3 OBSERVE AS IMAGENS E RESPONDA A ONDE ESTÁ PROJETADA A SOMBRA DE BETO A CADA PERÍODO DO DIA.



DE MANHÃ



AO MEIO-DIA



À TARDE

A PELA MANHÃ:

B AO MEIO DIA:

C PELA TARDE:



- 4 OBSERVE AS IMAGENS E POSICIONE O SOL NO LUGAR CORRETO NO CÉU.



- 5 RESPONDA COM ATENÇÃO.

A ESCREVA OS NOMES DOS PONTOS CARDEAIS.


L: \_\_\_\_\_ . O: \_\_\_\_\_ .

N: \_\_\_\_\_ . S: \_\_\_\_\_ .

B O SOL NASCE NO \_\_\_\_\_ E SE PÕE NO \_\_\_\_\_ .



OBSERVE O MENINO NA IMAGEM E DEPOIS RESPONDA.



A O BRAÇO DIREITO ESTÁ INDICANDO A DIREÇÃO \_\_\_\_\_.

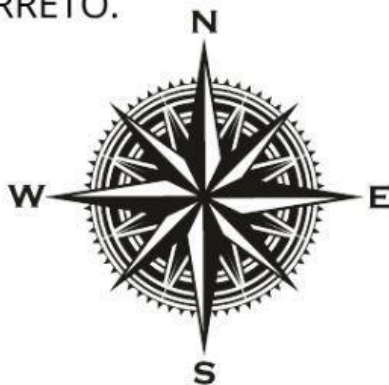

B O BRAÇO ESQUERDO A DIREÇÃO \_\_\_\_\_.

C À FRENTE DO CORPO ESTÁ NA DIREÇÃO \_\_\_\_\_.

D ATRÁS DO CORPO ESTÁ A DIREÇÃO \_\_\_\_\_.

E A CASA DO MENINO ESTÁ EM QUAL DIREÇÃO?

7 IDENTIFIQUE OS INSTRUMENTOS DE LOCALIZAÇÃO. ARRASTE O NOME E COLE NO LOCAL CORRETO.



BÚSSOLA

MAPA

GPS



ROSA DOS VENTOS