

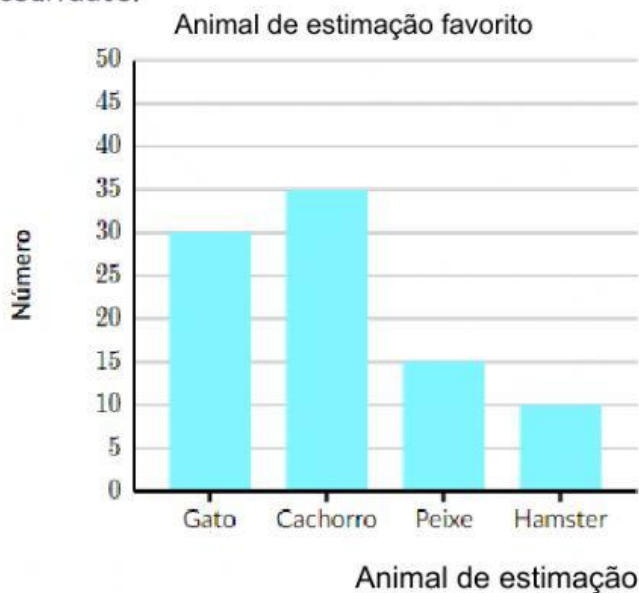


Nome: \_\_\_\_\_

Data: \_\_\_\_\_

## Oficina de Matemática - Year 4

1) Sara perguntou a todos os alunos do quarto ano de sua escola qual era o animal de estimação favorito deles. Depois, ela fez um gráfico de barras para mostrar seus resultados.




a) Qual animal de estimação foi escolhido mais frequentemente?

b) Quantos alunos preferem peixe como animal de estimação?

c) Quantos alunos participaram da pesquisa de Sara?

2) O gráfico a seguir apresenta a quantidade de ovelhas que possuem as fazendas de Diane, Girish e Willy.




a) Qual fazenda possui maior número de ovelhas?

b) Quantas ovelhas possui na fazenda de Girish?

3) Na escola do Beto, depois das aulas, todos alunos frequentam uma das atividades: Música, Inglês, Informática e Ginástica. O pictograma seguinte mostra como todos os alunos são distribuídos pelas quatro atividades, à 2.ª feira.

Cada 😊 representam 20 alunos.



- Qual atividade possuem mais alunos?
- Quantos alunos frequentam atividade de música?
- Quantos alunos estão presentes nessa 2ª feira?

4) O gráfico de pizza apresenta a quantidade de itens vendidos em uma loja de roupas.



- Qual produto mais vendido?
- Qual produto menos vendido?