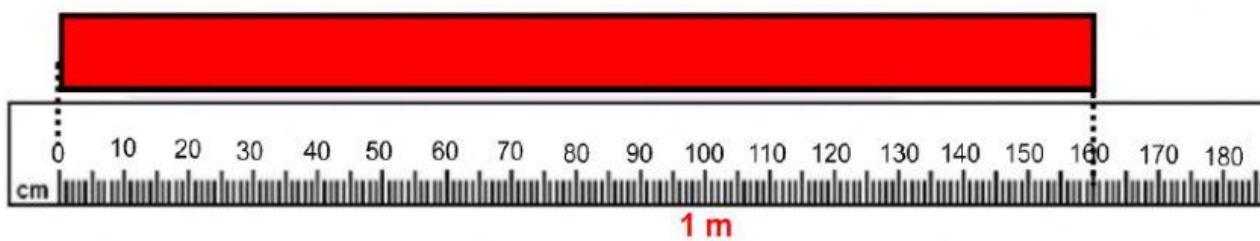



Demuestro lo aprendido 5: Realizamos mediciones y conversiones

Competencia:	Resuelve problemas de movimiento, forma y localización
Capacidad/Desempeño:	3. Emplea estrategias y procedimientos para medir, de manera exacta la longitud y hace conversiones de unidades de longitud (centímetro a metro).

1. Observa la cinta métrica y determina la longitud. Luego completa la tabla. Escribe los decimales con coma y sin espacio.

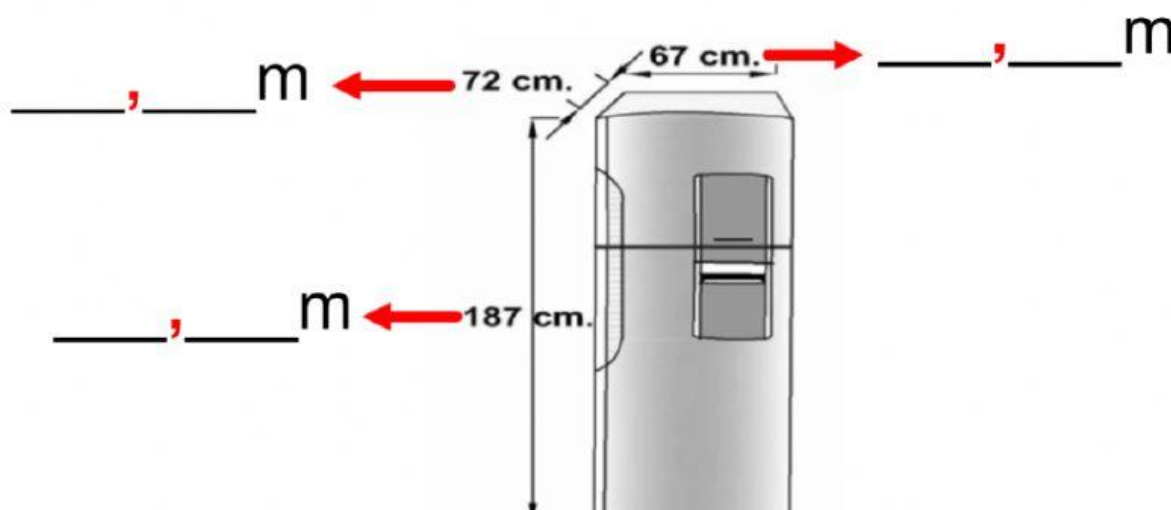


Medida en centímetros (cm)	m	cm	Medida en metros (m)
cm			m



Medida en centímetros (cm)	m	cm	Medida en metros (m)
cm			m

2. Las medidas de la refrigeradora están expresadas en centímetros. Convierte a metro y completa los espacios.



3. Completa la tabla y convierte los centímetros a metros.

Medida en centímetros (cm)	m		cm	Medida en metros (m)
485 cm				____ , ____ m
7 cm				____ , ____ m
19 cm				____ , ____ m
165 cm				____ , ____ m
521 cm				____ , ____ m
910 cm				____ , ____ m