



LOS NÚMEROS DEL 1 AL 20




¿qué tanto sabes?

Cuenta y escribe el número de objetos según la imagen












2

Escribe el número que corresponde según la cantidad de elementos

a.



b.



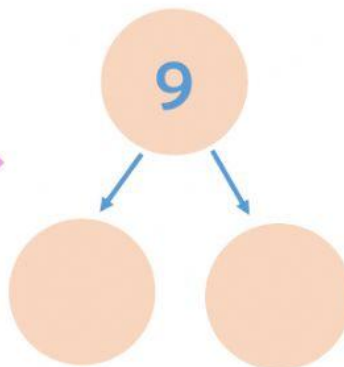
c.



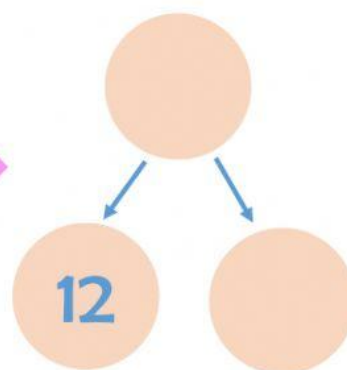
3

Escribe los números que faltan

a




b



4

Cuenta y relaciona




Ocho



Seis



Once



Siete



5

Marca con un
conjunto.



la cantidad de elementos que tiene cada

a.




14

15

13

b.



20

15

18

6

Busca y cuenta, escribe en número y letras











Comparación y orden de números



Selecciona los grupos que tienen **IGUAL** número de objetos



2


Observa y selecciona la frase correcta



Hay tantos niños como niñas

Hay más niños que niñas

Antes que se cayeran las manzanas del árbol, este tenía



12

15

14