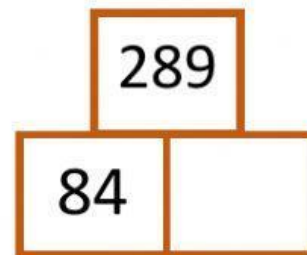
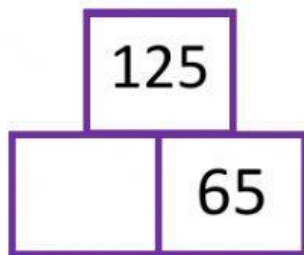
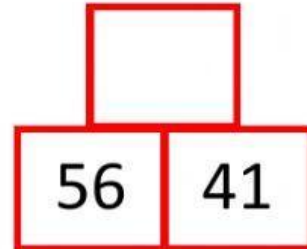
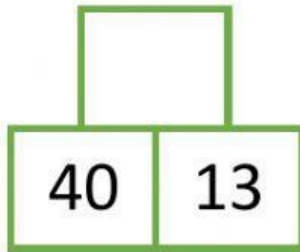


PIRÁMIDES NUMÉRICAS

NIVEL 1:

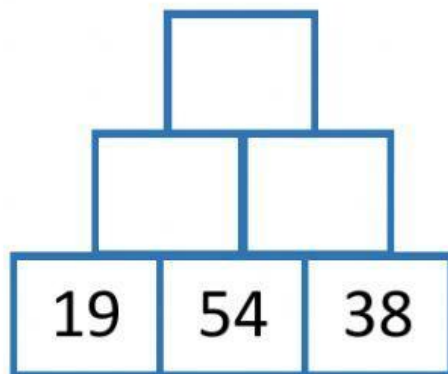
😊 Resuelve las siguientes pirámides:

Inténtalo las veces que desees.



NIVEL 2:

😊 Resuelve la siguiente pirámide:

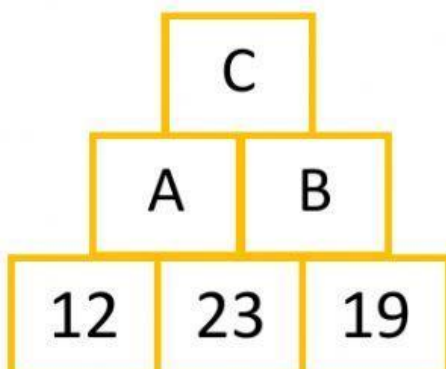


¡Tú puedes hacerlo!



NIVEL MÁSTER:

😊 Resuelve las siguientes pirámides:



Calcula:

$$A + B + C =$$