

## ELIGE

<b>EL SOL</b>		
	EL SOL ES .....	UNA ESTRELLA
		UN PLANETA
		UN ASTRO
	TIENE LUZ PROPIA .....	VERDADERO
FALSO		

<b>LA TIERRA</b>		
	LA TIERRA ES ...	UNA ESTRELLA
		UN PLANETA
		UN ASTRO
	TIENE LUZ PROPIA .....	VERDADERO
FALSO		

<b>LA LUNA</b>		
	LUNA ES .....	UNA ESTRELLA
		UN PLANETA
		UN ASTRO
	TIENE LUZ PROPIA .....	VERDADERO
FALSO		

# ELIGE

## LA TIERRA

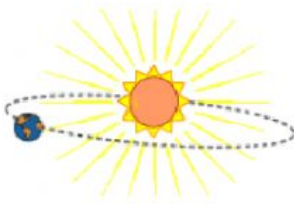


TARDA EN GIRAR SOBRE SÍ MISMA

24 HORAS

365 DÍAS

## LA TIERRA



TARDA EN GIRAR ALREDEDOR DEL SOL

24 HORAS

365 DÍAS

# ELIGE


## LA TIERRA



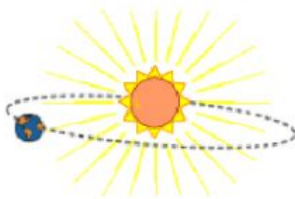
CUANDO GIRA SOBRE SÍ MISMA  
OCURREN



ESTACIONES DEL AÑO



## LA TIERRA



CUANDO GIRA ALREDEDOR DEL  
SOL OCURREN



ESTACIONES DEL AÑO

