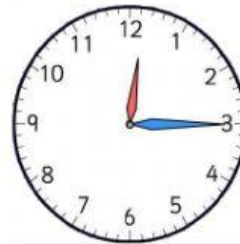


# Wie spät ist es?



### Spoj dvojice (Binde richtige Paare)

12,05	fünf vor halb drei
13,30	zehn nach neun morgens
14,25	Viertel nach acht
18,30	fünf Minuten nach zwölf
9,10	halb sieben abends
14,45	Viertel vor drei Uhr nachmittags
15,50	halb zwei
8,15	zehn Minuten vor vier Uhr nachmittags

### Zapiš digitálním časem (Schreib digitale Zeit) – Beispiel 7:01

Viertel vor drei Uhr nachmittags

Viertel nach sieben morgens

fünf Minuten vor eins nachts

zehn Minuten nach acht morgens

zwei Minuten vor halb sechs morgens

acht Uhr abends


sieben nach neun abends

vier vor zwei nachmittags


### Zapiš podle poslechu digitální čas (Hör zu und schreib digitale Zeit)


1 

4 


7 

2 

5 

8 

3 

6 

9 