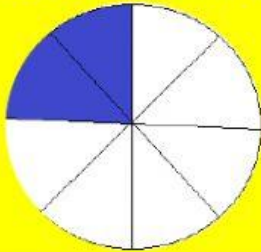


Actividad de Matemática

Fracciones Propias

1. Escoja la opción correcta según el dibujo.




$$\frac{3}{6}$$

$$\frac{3}{4}$$

$$\frac{2}{8}$$

$$\frac{8}{8}$$


2. Une con líneas el gráfico y su fracción según como corresponda.



$$\frac{1}{5}$$



$$\frac{4}{16}$$



$$\frac{3}{9}$$

3. Escoja verdadero o falso según corresponda.

- Las fracciones sirven para escribir divisiones.

Verdadero

Falso

- Las fracciones propias tienen la cantidad más alta en el numerador.

Verdadero

Falso