

Escribe en el paréntesis la letra que corresponde a la columna

- | | |
|-----------------------|--|
| A) Sector primario | () Reúne a todos los trabajadores y empresas que se encargan de prestar un servicio a la comunidad. |
| B) Sector secundario | () Transforma los recursos naturales en productos, este proceso se desarrolla principalmente en fábricas. |
| C) Sector terciario | () Agrupa todas las actividades que se centran en la extracción y la explotación de la naturaleza. |
| D) Sector cuaternario | () Comprende todas las actividades relacionadas con el desarrollo y la aplicación de las últimas tecnologías. |

Las actividades económicas pasan por un proceso que va desde la elaboración de los artículos hasta que son utilizados. Este proceso tiene tres etapas. Observa las imágenes y une el proceso que representa.






Resuelve la sopa de letras.

sectores
primario
secundario
terciario
cuaternario
economía
industria
naturaleza
servicios
tecnología

N	A	T	U	R	A	L	E	Z	A	H	F	W	T
R	Y	N	N	U	K	Z	Q	P	A	X	X	R	X
T	E	C	N	O	L	O	G	I	A	K	S	H	D
E	V	T	V	S	E	R	V	I	C	I	O	S	U
C	P	B	S	S	S	E	C	T	O	R	E	S	J
O	G	M	Z	H	T	O	N	Z	L	L	Q	B	D
N	K	Z	Q	L	O	Q	E	S	S	C	C	P	U
O	T	E	R	C	I	A	R	I	O	D	U	X	S
M	Y	R	R	S	E	C	U	N	D	A	R	I	O
I	Y	Y	O	P	R	I	M	A	R	I	O	T	S
A	P	H	Q	R	G	D	P	X	E	C	B	G	T
L	F	L	E	M	B	G	J	N	B	K	B	I	M
N	I	N	D	U	S	T	R	I	A	I	U	U	L
F	C	U	A	T	E	R	N	A	R	I	O	W	E

Selecciona falso o verdadero según corresponda.

- La minería hace parte de las actividades del sector primario. 
- La educación es un servicio del sector secundario. 
- El turismo hace parte del sector terciario. 
- El sector secundario reúne todas las actividades relacionadas con la industria. 