

















NOME: _____

DATA: ____/____/____

CONTE OS DEDINHOS, COLOQUE O NUMERAL CORRSPONDENTE NOS QUADRINHOS E FAÇA A CONTAGEM TOTAL. SIGA O EXEMPLO.

 +  = 3 <input type="text" value="2"/> + <input type="text" value="1"/> = 3	 +  = <input type="text"/> + <input type="text"/> = <input type="text"/>
 +  = <input type="text"/> + <input type="text"/> = <input type="text"/>	 +  = <input type="text"/> + <input type="text"/> = <input type="text"/>
 +  = <input type="text"/> + <input type="text"/> = <input type="text"/>	 +  = <input type="text"/> + <input type="text"/> = <input type="text"/>
 +  = <input type="text"/> + <input type="text"/> = <input type="text"/>	 +  = <input type="text"/> + <input type="text"/> = <input type="text"/>