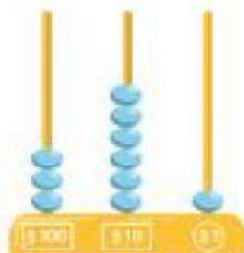



2

Representemos números en el ábaco

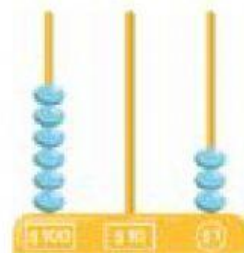
1. Escribe el número representado en cada ábaco.



.....



.....




.....

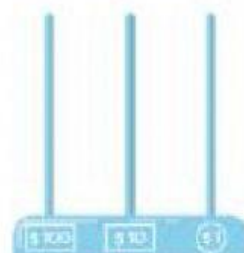
2. Dibuja las bolas necesarias para representar los números siguientes en los ábacos.



254




711




434



930



76



104


Fecha:



3. Representa 3 números diferentes con 2 bolas en cada ábaco.



.....




.....



.....


4. Representa un número en cada ábaco siguiendo las instrucciones.

a) Usa 9 bolas para representar un número entre 200 y 500.




.....

b) Usa 6 bolas para representar un número entre 400 y 420.



.....

c) Usa 14 bolas para representar un número entre 60 y 90.



.....