


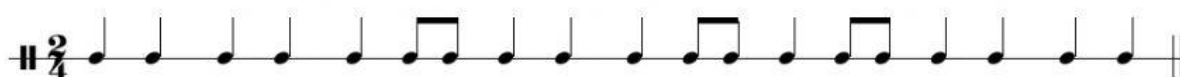
Colocacion de lineas divisorias

Ejemplo



Indica en cada recuadro el numero de compases que se forman de acuerdo a cada indicador de compas.

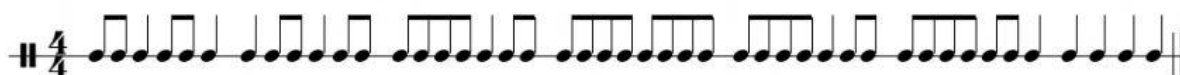
¿Cuántos compases de 2/4 hay en la siguiente línea?



¿Cuántos compases de 3/4 hay en la siguiente línea?



¿Cuántos compases de 4/4 hay en la siguiente línea?



¿Cuántos compases de 2/4 hay en la siguiente línea?



¿Cuántos compases de 3/4 hay en la siguiente línea?



¿Cuántos compases de 4/4 hay en la siguiente línea?

