







Matemática  
SEGUNDO GRADO  
Práctica Sincrónica

T. Arelys 2021

Problema

- a. La maestra compró **8** mascarillas azules y **8** mascarillas negras.  
¿Cuántas compró en total?

<b>Datos/ Comprendo</b> 	<b>Operación / Resuelvo</b> 
<b>Estrategia/ Planeo</b>  Voy a realizar una _____  _____ ○ _____ = _____ ?	<b>Compruebo</b>   _____ ○ _____ = _____

**Respuesta:** Compró \_\_\_\_\_ mascarillas en total.

