

ESTÃO VENDENDO ESSES QUADRADINHOS? ESSES QUADRADINHOS SÃO CHAMADOS DE CUBINHOS.

ABAIXO TEM 100 CUBINHOS.



10	20	30	40	50	60	70	80	90	100
9	19	29	39	49	59	69	79	89	99
8	18	28	38	48	58	68	78	88	98
7	17	27	37	47	57	67	77	87	97
6	16	26	36	46	56	66	76	86	96
5	15	25	35	45	55	65	75	85	95
4	14	24	34	44	54	64	74	84	94
3	13	23	33	43	53	63	73	83	93
2	12	22	32	42	52	62	72	82	92
1	11	21	31	41	51	61	71	81	91

ABAIXO TEM 10 CUBINHOS.



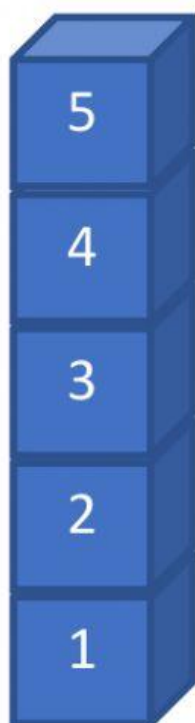
QUANDO TEM DEZ CUBINHOS NÓS FALAMOS QUE TEM UMA DEZENA.



ABAIXO TEM 1 CUBINHO, QUE VAMOS CHAMAR DE UNIDADE.

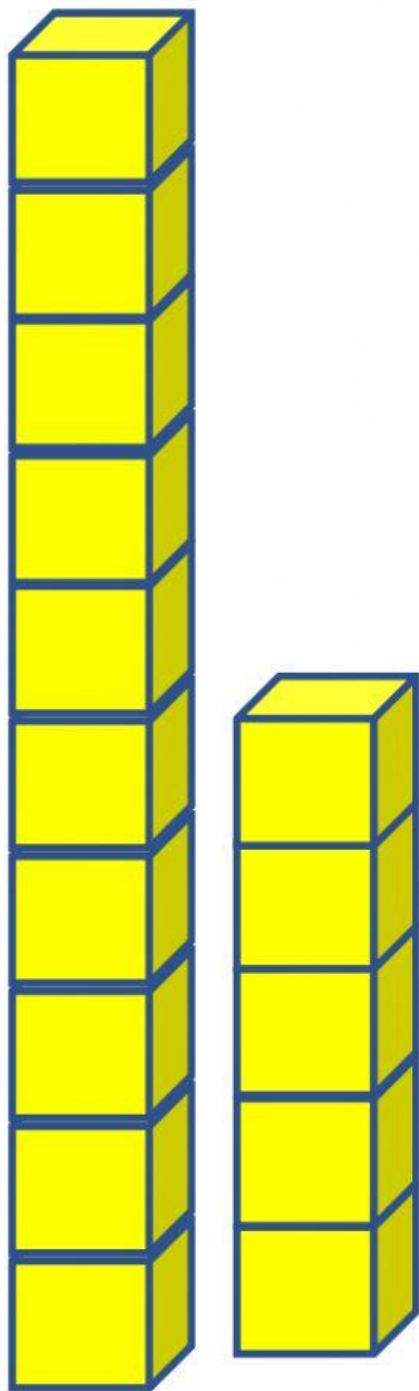


ABAIXO TEM 5 CUBINHOS, QUE VAMOS CHAMAR DE UNIDADES.



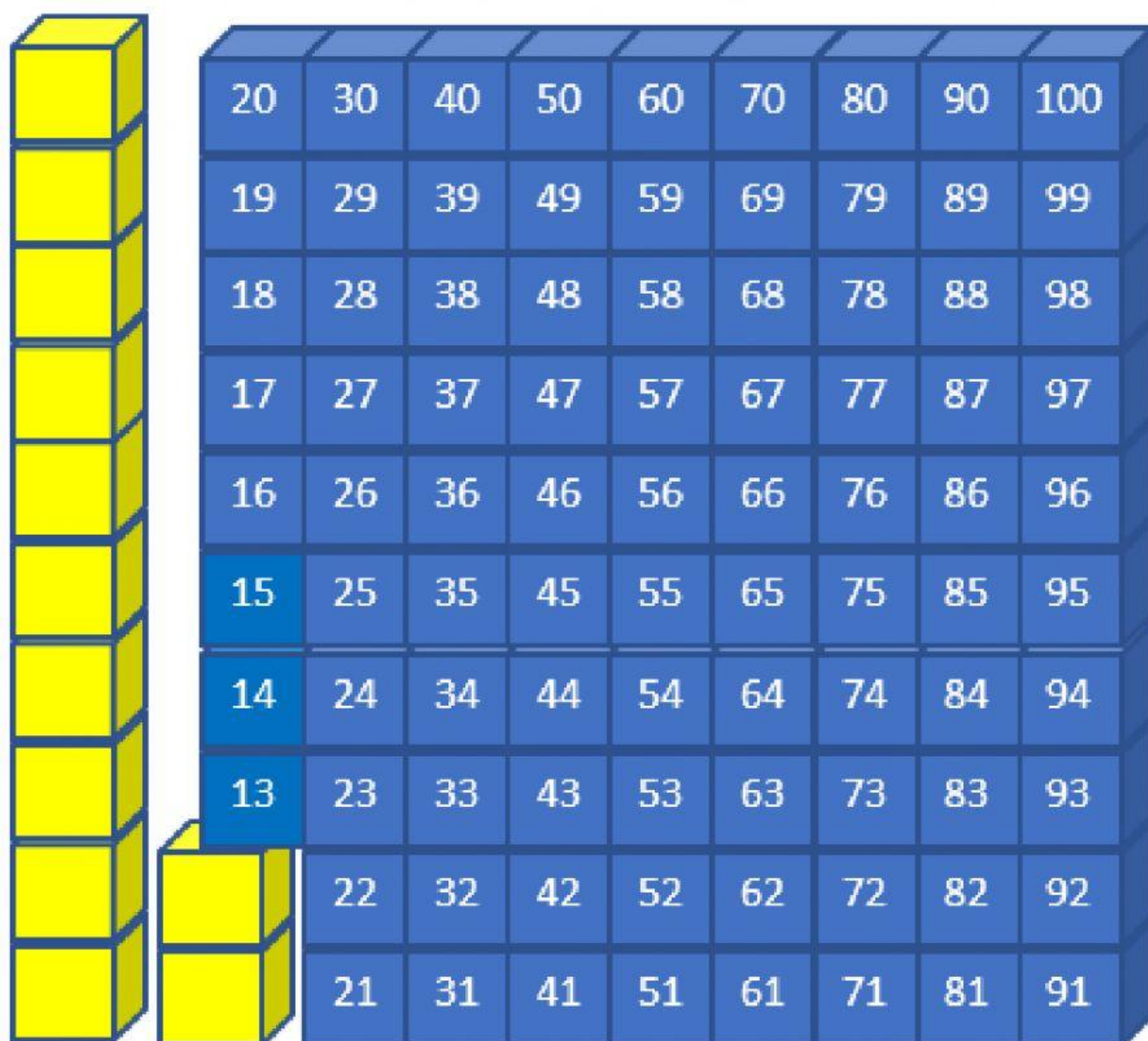
ABAIXO TEM 1 DEZENA E 5 UNIDADES

TAMBÉM PODEMOS FALAR QUE TEM 15 UNIDADES

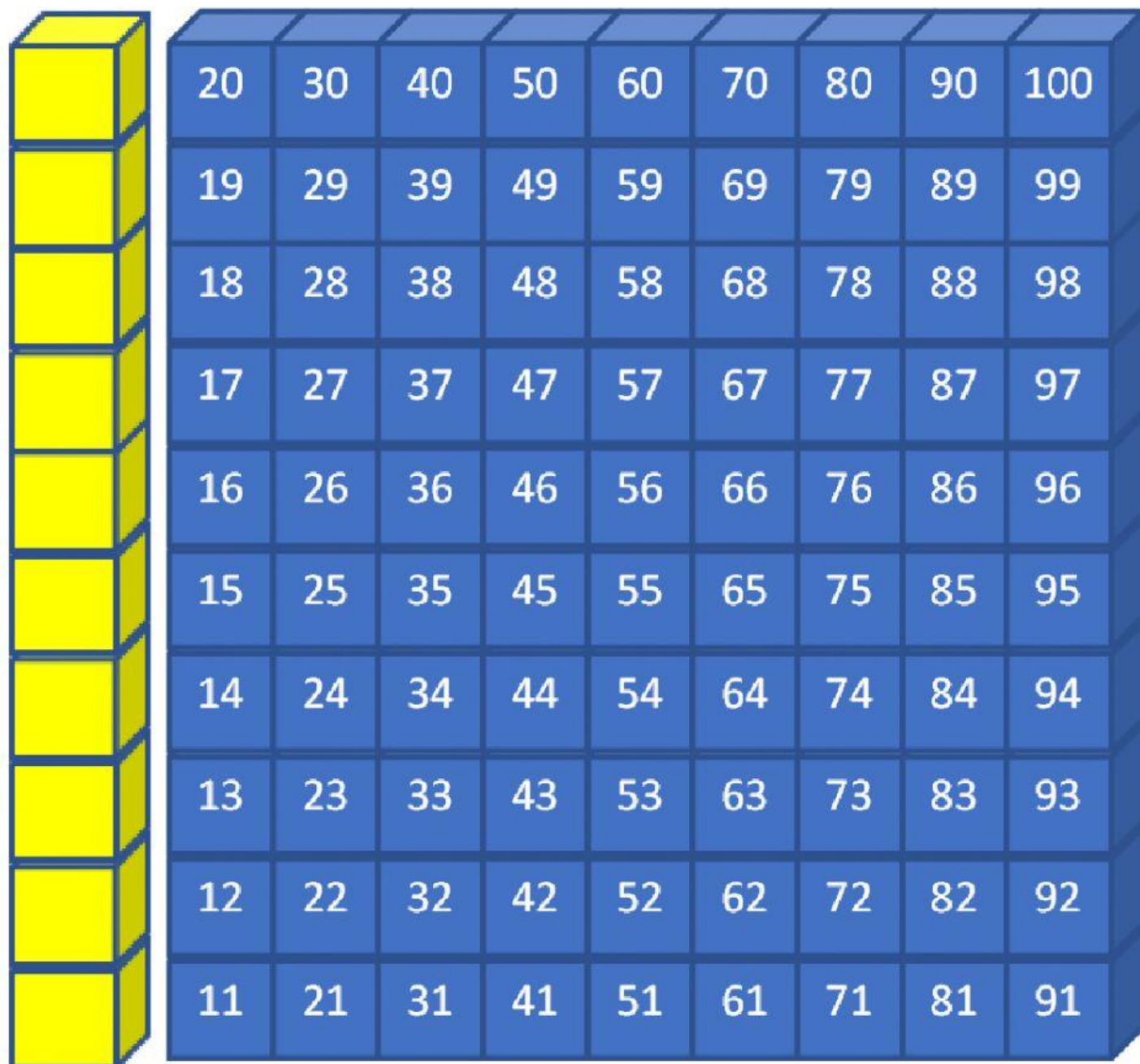


ESSES CUBOS AMARELOS SÃO MUITO BONITOS!

ABAIXO TEM 1 DEZENA E 2 UNIDADES DE CUBOS AMARELOS



AGORA TEM 1 DEZENA DE CUBOS AMARELOS



20	30	40	50	60	70	80	90	100
19	29	39	49	59	69	79	89	99
18	28	38	48	58	68	78	88	98
17	27	37	47	57	67	77	87	97
16	26	36	46	56	66	76	86	96
15	25	35	45	55	65	75	85	95
14	24	34	44	54	64	74	84	94
13	23	33	43	53	63	73	83	93
12	22	32	42	52	62	72	82	92
11	21	31	41	51	61	71	81	91

AGORA CHEGOU A SUA VEZ DE COLOCAR CUBOS AMARELOS NESSE JOGO!



ARRASTE 5 UNIDADES AMARELAS

10	20	30	40	50	60	70	80	90	100
9	19	29	39	49	59	69	79	89	99
8	18	28	38	48	58	68	78	88	98
7	17	27	37	47	57	67	77	87	97
6	16	26	36	46	56	66	76	86	96
5	15	25	35	45	55	65	75	85	95
4	14	24	34	44	54	64	74	84	94
3	13	23	33	43	53	63	73	83	93
2	12	22	32	42	52	62	72	82	92
1	11	21	31	41	51	61	71	81	91

