

EVALUACIÓN PROYECTO 7

1.- Seleccione la opción correcta:

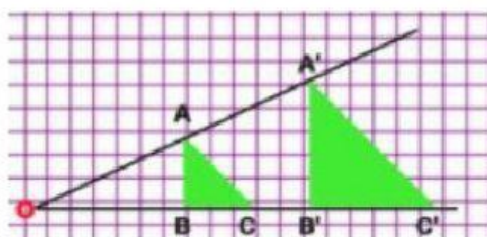
Dos figuras son
medida de sus lados.

si tienen el mismo tamaño, área, ángulos internos y la

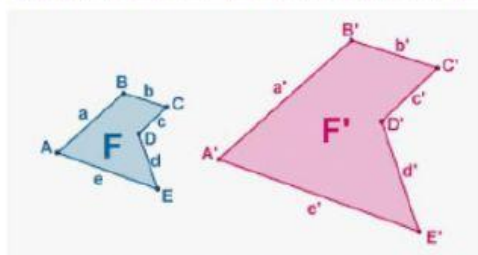
En matemáticas,
forma, pero distinto tamaño.

se refiere a las figuras geométricas que tienen la misma

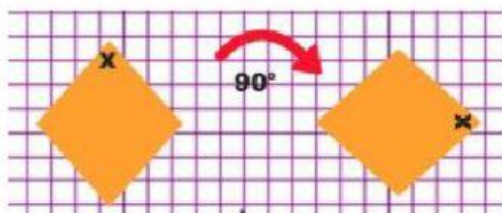
2.- Relacione según corresponda:



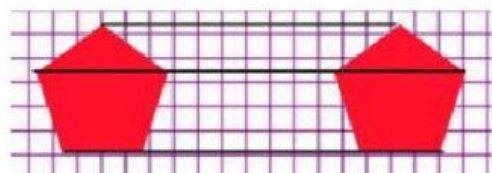
ROTACIÓN



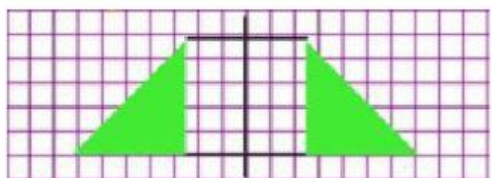
REFLEXIÓN



TRASLACIÓN

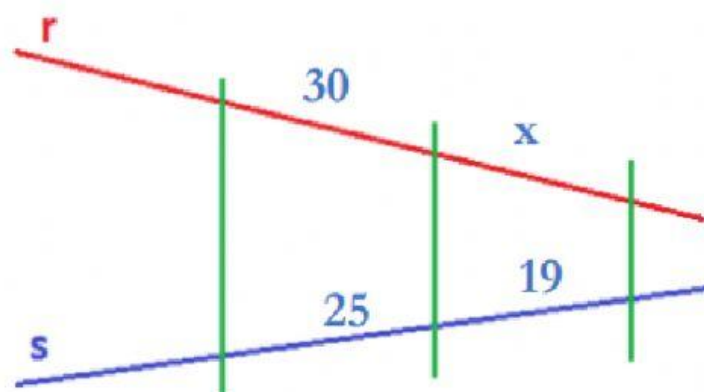


SEMEJANZA



HOMOTECIA

3.- ¿Cuánto mide el segmento x en la figura? Selecciona la opción correcta.



570

22,8

15,8

4.- Sabiendo que a y b son paralelas, halla sus medidas.

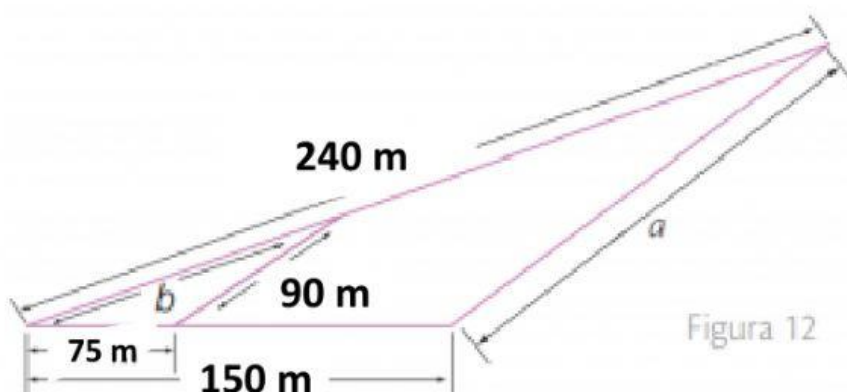


Figura 12

$a=45\text{m}; b=120\text{m}$

$a=18\text{m}; b=12\text{m}$

$a=180\text{m}; b=120\text{m}$

5.- Halla la altura de la Iglesia.



3,6 m

90 m

130 m