

Estados de la materia

SÓLIDO



LÍQUIDO



GASEOSO



1. ¿En qué estado se encuentran? ¿Selecciona es estado para cada una de las imágenes?



2. Lee con atención y une las características con cada una de los estados de la materia:

SÓLIDO

LÍQUIDO






GASEOSO

No tiene forma propia.
No tiene volumen fijo.

Tiene forma y volumen fijos.

No tiene forma propia.
Su volumen es fijo, pero se adapta al recipiente que lo contiene.

3. Observa cada imagen y selecciona el recuadro indicado, teniendo en cuenta los cambios de estado de los objetos :

Líquido a sólido	Líquido a gaseoso	Sólido a líquido
		<input type="text"/>
		<input type="text"/>
		<input type="text"/>