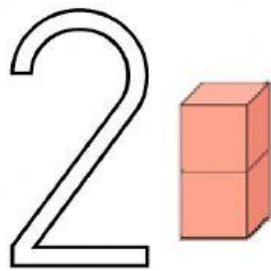


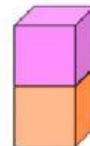
Descomposición del número 2



¿Como puedo repartir 2 unidades?



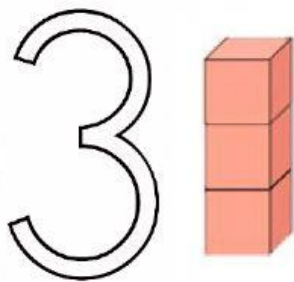
..... y



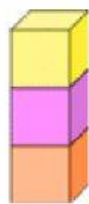
..... y



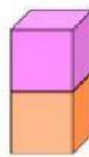
Descomposición del número 3



¿Como puedo repartir 3 unidades?



..... y



..... y




Deberes.net

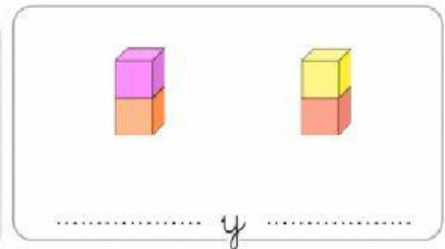
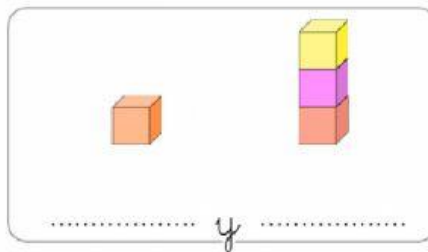
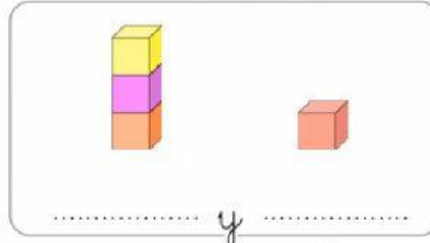
Encuentra más fichas y recursos educativos en DEBERES.NET

Descomposición del número 4

4

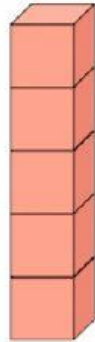


¿Como puedo repartir 4 unidades?




Descomposición del número 5

5



¿Como puedo repartir 5 unidades?



..... y



..... y



..... y



..... y



Deberes.net

Encuentra más fichas y recursos educativos en DEBERES.NET