

Atividades


1. Complete.





Uma caixa como esta lembra um cubo.

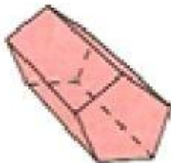
Este poliedro tem _____ faces,
_____ arestas e _____ vértices.

2. Observe a representação dos poliedros abaixo. Dê o número de:

a)  faces: _____
arestas: _____
vértices: _____

b)  faces: _____
arestas: _____
vértices: _____

c)  faces: _____
arestas: _____
vértices: _____

d)  faces: _____
arestas: _____
vértices: _____