


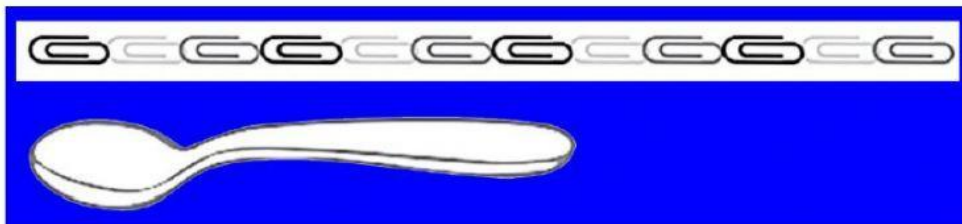
MEDIDAS DE LONGITUD

Observa, calcula y responde, en la línea, cuánto mide cada objeto.


El tiburón de juguete mide mariposas.



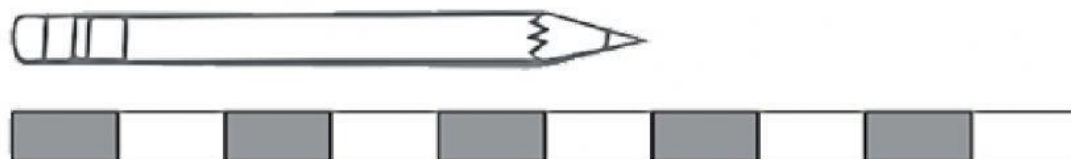
La cuchara mide clips de largo.



El hueso mide mariposas de largo.



Escribe cuántos bloques mide cada lápiz, después contesta las preguntas seleccionando la respuesta correcta.



El lápiz A mide bloques de largo.



El lápiz B mide bloques de largo.



El lápiz C mide bloques de largo.

1. ¿Cuál es el lápiz más largo?	A	B	C
2. ¿Cuál es el lápiz más corto?	A	B	C
3. ¿Cuántos bloques es más largo el lápiz C que el lápiz B?			
4. ¿Cuántos bloques es más corto el lápiz B que el lápiz A?			

¿Cuánto miden los siguientes objetos? Observa las reglas.

