

NOMBRE _____

FECHA _____

1) Relaciona mediante flechas cada animal con una de sus características.

Medusa

Diez patas

Mosca

Tentáculos

Gamba

Anillos

Esponja

Seis patas

Erizo

Poros


Gusano


Placas


2) Con la información de la tabla de debajo, escribe la letra que le corresponde a cada uno de estos cinco animales.











	Animal A	Animal B	Animal C	Animal D	Animal E
Tiene dientes			X	X	X
Tiene mamas					X
Tiene plumas	X				
Tiene escamas			X	X	
Tiene piel desnuda		X			
Respira por branquias				X	
Respira por pulmones	X	X	X		X

3) Completa este texto con las siguientes palabras.

Grasas

Hidratos de carbono

Energía

Aceite

Pan

Alimentos como la pasta, el o las patatas aportan, principalmente, nutrientes que son El, la mantequilla y algunas carnes y pescados aportan Ambos tipos de nutrientes son los que proporcionan a nuestro cuerpo.

- 4) Encuentra los intrusos que se han colado en esta larguísima cola de materiales naturales. Luego, completa la tabla clasificando los materiales naturales que has encontrado en ella.



Intrusos. y

Origen animal	Origen vegetal	Origen mineral
.....
.....
.....
.....

- 5) Rodea las fuentes de energía renovables.

Petróleo

Viento

Gas natural

Sol

Olas

Carbón

- 6) La madre de Claudia ha cocinado los siguientes alimentos para hacer una paella. Rodea los ANIMALES INVERTEBRADOS que ha utilizado.

Pollo

Mejillones

Langostinos

Judías

Rape

Calamares

Guisantes

- 7) Marca los animales MAMÍFEROS.

Atún

Ballena

Camaleón

Ratón

Pulpo

Pingüino


- 8) ¿Qué forma de energía se produce al tocar un instrumento?

☐ La energía luminosa

☐ La energía eléctrica

☐ La energía sonora

- 9) La máquina que está usando Pedro es...



☐ Una polea.

☐ Un plano inclinado.

☐ No está usando ninguna máquina.

10) José y Ana se van con sus padres de acampada y están preparando lo que tienen que llevar. Ayúdales respondiendo a las preguntas.

a) Para alimentarse de forma saludable, ¿qué alimentos deben llevarse al campo?

☐☐☐☐☐☐

b) José es alérgico a los moluscos. Marca los animales que no puede comer.

Calamares

Trucha

Mejillones

Sardinas

Atún

c) Colorea los aparatos que no van a poder utilizar José y Ana en el campo.

Secador

Ventilador

Linterna solar

Cascanueces

Batidora

d) ¿Qué material deben llevar para evitar que se mojen las cosas fuera de la tienda si llueve?

☐

Capa de plástico

☐

Tela

☐

Papel

e) Ana va a llevar su abrebotellas al campo. ¿Qué tipo de máquina es?

Es una máquina