

NOMBRE:.....

Primer grado

FECHA:.....






















## DECENAS Y UNIDADES

CONTÁ CADA GRUPO Y COLOCÁ EL RESULTADO



= 10

		▶	<input type="text"/>	<input type="text"/>
		▶	<input type="text"/>	<input type="text"/>
		▶	<input type="text"/>	<input type="text"/>
		▶	<input type="text"/>	<input type="text"/>
		▶	<input type="text"/>	<input type="text"/>
		▶	<input type="text"/>	<input type="text"/>
		▶	<input type="text"/>	<input type="text"/>
		▶	<input type="text"/>	<input type="text"/>
		▶	<input type="text"/>	<input type="text"/>
		▶	<input type="text"/>	<input type="text"/>