


Las cargas eléctricas



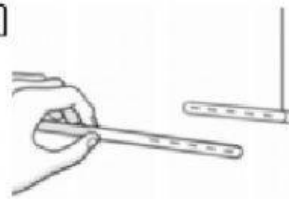
Lorena Suárez

Clasifica las imágenes correctamente

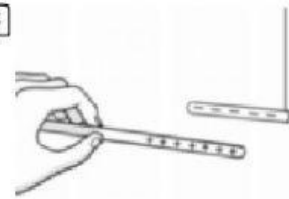
A



B



C



SE REPELEN

SE ATRAEN

Completa los huecos.

- Un cuerpo que presenta las mismas cargas positivas que negativas se considera eléctricamente _____.
- Cuando un cuerpo presenta más cargas positivas que negativas, está cargado _____.
- Un cuerpo está cargado _____ cuando tiene más cargas negativas que positivas.