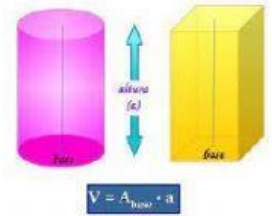
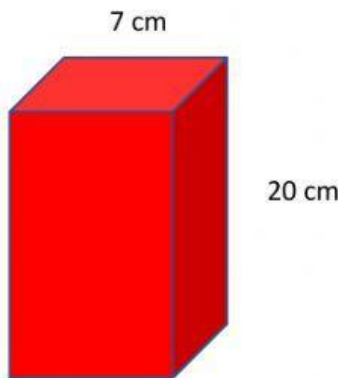


VOLUMEN DE PRISMAS Y CILINDROS



Nombre del alumno

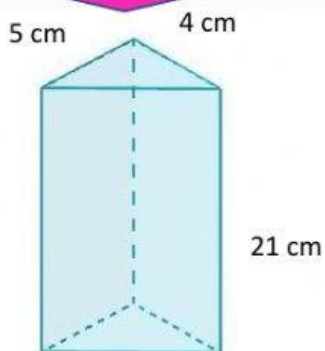
I. Encuentra el volumen de los siguientes prismas y cilindros



Área de la base cm²

Volumen= cm³

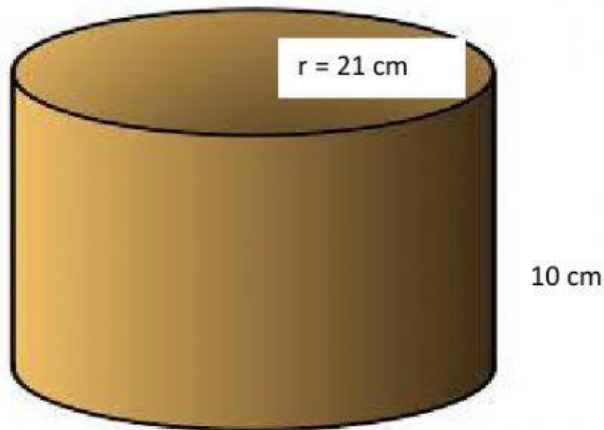
Recuerda que para encontrar el área de un triángulo usamos base por altura entre dos $BH/2$



Área de la base cm²

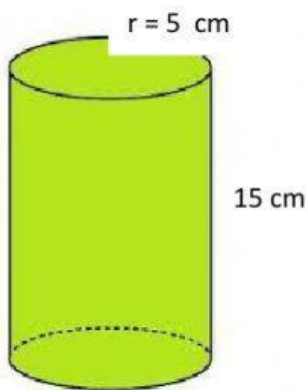
Volumen= cm³

Para estos problemas considera $\pi = 3.14$
Y solo escribe 2 decimales en el resultado



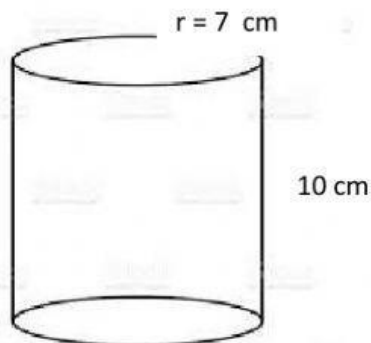
Área de la base cm^2

Volumen de cilindro cm^3



Área de la base cm^2

Volumen de cilindro cm^3



Área de la base cm^2

Volumen de cilindro cm^3