



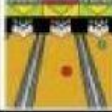



Gráfica

Señala los cuadritos de cada diversión, que señalaron los niños.

						
Niños/as	4	2	5	1	3	7

REPRESENTA LOS DATOS EN EL GRÁFICO:

10						
9						
8						
7						
6						
5						
4						
3						
2						
1						
						

circo cine parque teatro boliche excursión

Gráfica

Selecciona las respuestas de acuerdo a la gráfica, para contestar las preguntas.

¿A cuántos niños/as les gusta ir de excursión?

¿A cuántos niños/as les gusta el circo?

¿Cuántos niños/as prefieren jugar en el parque?

¿Cuál es tu actividad favorita?

¿A cuántos niños/as hemos preguntado?