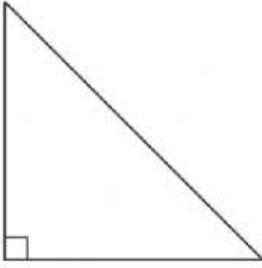


I. Berikan tanda silang (x) pada jawaban yang benar !

1.



Gambar diatas merupakan bangun

- A. Segitiga sembarang C. Segitiga sama sisi
B. Segitiga sama kaki D. Segitiga siku

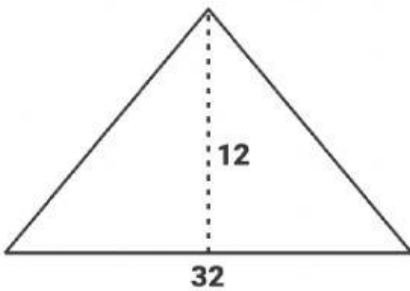
2. Segitiga sama sisi mempunyai simetri putar

- A. Tidak ada C. 2
B. 1 D. 3

3. Sebuah persegi luasnya 289 cm^2 . Panjang sisinya adalah

- A. 16 cm C. 18 cm
B. 17 cm D. 19 cm

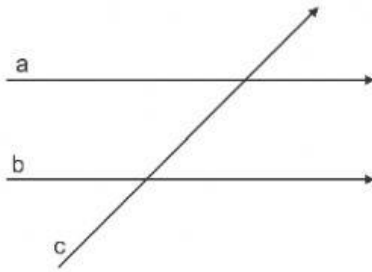
4.



Keliling bangun diatas adalah

- A. 56 cm C. 72 cm
B. 68 cm D. 84 cm

5. Luas bangun berikut adalah



Hubungan garis a dan c adalah

- A. Sejajar
- B. Berhimpit
- C. Berpotongan
- D. Tegak lurus

11. Berikut bentuk penyajian data kecuali

- A. Tabel
- B. Diagram batang
- C. Diagram garis
- D. Diagram angka

12. Perhatikan tabel berikut !

Pekerjaan Wali	Jumlah
Pegawai Negeri	16
Pegawai Swasta	24
Petani	20
Pedagang	18
Wiraswasta	18

Paling banyak pekerjaan wali adalah

- A. Pegawai negeri
- B. Pegawai swasta
- C. Petani
- D. Wiraswasta

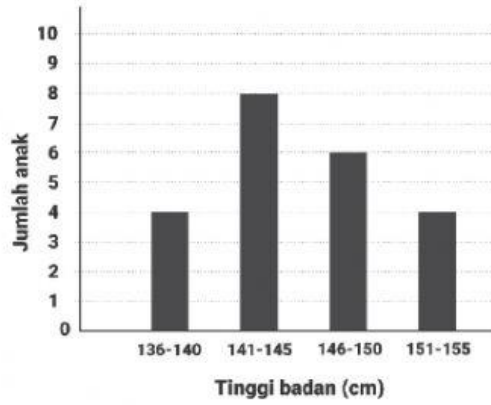
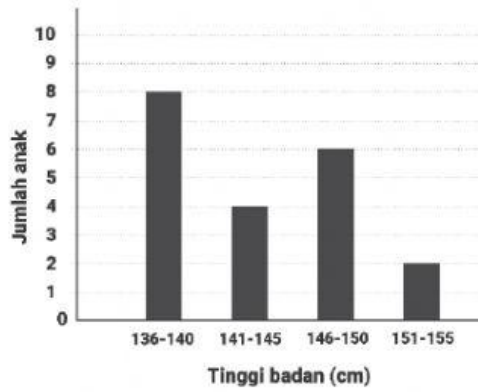
13. Berikut adalah tabel pegawai di PT Sehat Sentosa berdasarkan umur

Umur	Jumlah
16 - 20	6
21 - 25	12
26 - 30	18
31 - 35	8
36 - 40	4
41 - 45	2

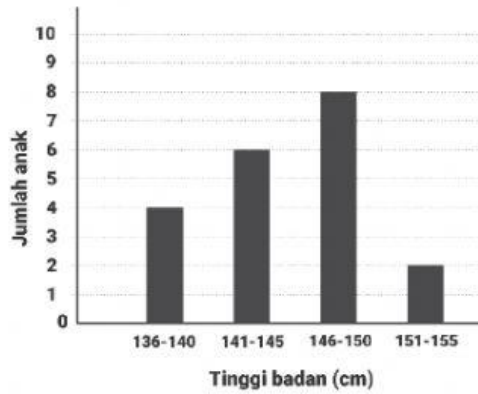
Jumlah pegawai yang berumur 21 – 35 adalah

- A. 30 orang
- B. 38 orang
- C. 42 orang
- D. 44 orang

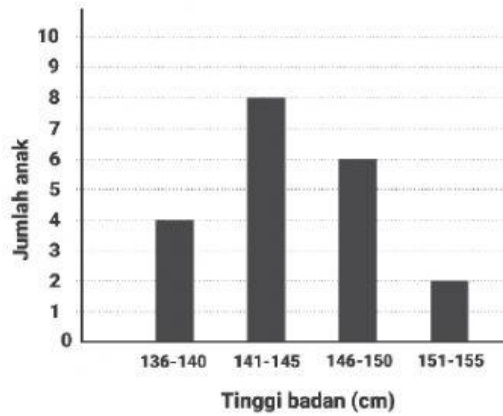
14. Berikut hasil penjualan ikan yang disajikan dalam diagram



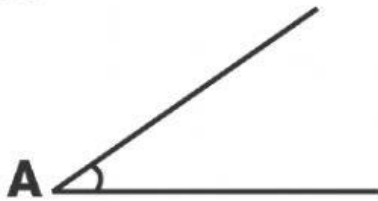
B.



D.



17.17.



Gambar diatas merupakan

- A. Sudut lancip
- B. Sudut tumpul
- C. Sudut siku
- D. Sudut sembarang

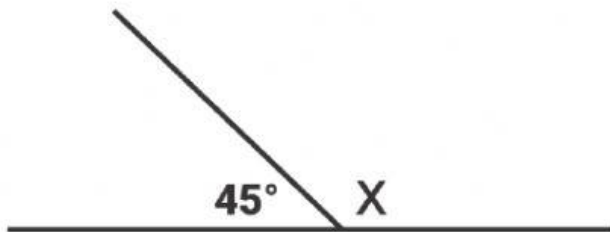
18.18.



Gambar diatas merupakan

- A. Sudut lancip
- B. Sudut tumpul
- C. Sudut siku
- D. Sudut sembarang

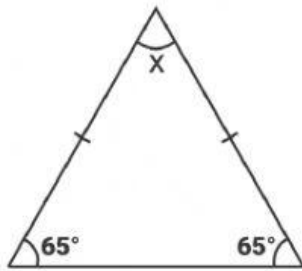
19.19.



Sudut x pada gambar diatas adalah

- A. 45°
- B. 60°
- C. 90°
- D. 135°

20. Besar sudut pada gambar segitiga dibawah ini adalah



- A. 45°
- B. 50°
- C. 55°
- D. 60°