






PROBLEMAS CON LAS HORAS

1. Hemos llegado al cine y son las 06:30 y la película terminará dentro de 2 horas.. ¿A que hora saldremos del cine?
Marca la hora de inicio y de final de la película.





Respuesta:

2. Entramos en el restaurante a las 02:30 del mediodía y salimos a las 04:30. ¿Cuántas horas pasamos en el restaurante?
Marca la hora de inicio y de final de la comida.



Respuesta:

3. Los lunes voy al gimnasio. Entro a las 08:00 de la mañana y salgo a las 10:30. ¿Cuánto tiempo estoy en el gimnasio?
Marca la hora de inicio y de final del entrenamiento.



Respuesta: