




ESCOLA ESTADUAL "PROFESSOR JOAQUIM QUEIROZ"
Atividade de Matemática 5º ano do Ensino Fundamental

Aluno(a): _____ Professora: _____ Data: ____/____/____

TRABALHANDO COM GRÁFICOS

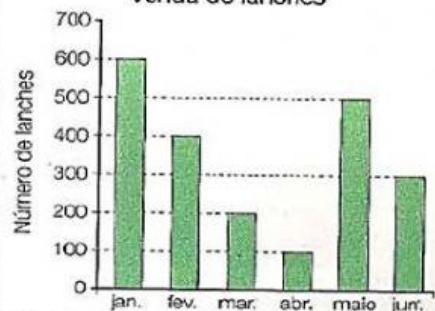
Observe os gráficos e complete as opções com V (verdadeiro) e F (falso):

Eleição para capitão do time



- () Anderson venceu a eleição.
- () Gilberto recebeu 3 votos.
- () Doze crianças votaram.
- () Joel ficou em 2º lugar.

Venda de lanches



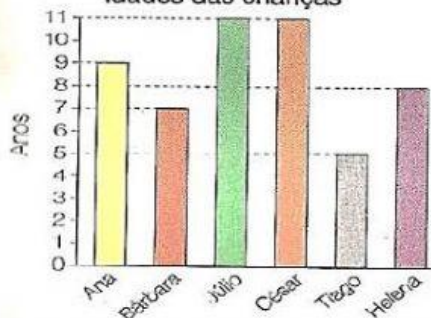
- () O mês que teve menos vendas foi março.
- () Vendeu-se em junho o triplo de abril.
- () Maio foi o 2º colocado em vendas.
- () Em janeiro vendeu-se 700 lanches.

Pipas produzidas



- () Vitor produziu mais pipas que Fred.
- () Tiago produziu menos pipas que Breno.
- () Caio e Fábio juntos produziram 18 pipas.
- () Rafael produziu 5 pipas a mais que Adriano.

Idades das crianças



- () Helena é mais nova que Bárbara.
- () Ana tem 4 anos a menos que César.
- () Júlio e Cesar tem a mesma idade.
- () Tiago é o mais velho.