



Talentos do  
CORAÇÃO

Escola Municipal Rodolf Mikel Ghannam

Professor (a):.....

Estudante: .....

Turma: 3º ano A ( ) C ( )




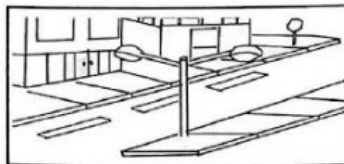



Prefeitura de  
**ANÁPOLIS**



### ATIVIDADE DE GEOGRAFIA

#### 1- Classifique as figuras como paisagem natural e paisagem modificada



#### 2-O que faz parte da paisagem do lugar onde você mora? Marque os quadrinhos

lojas

ruas

ponte

estrada

túnel

rio

edifícios

montanha

animais

árvores

casas

lago

pasto

mar

praça

• O que tem mais? Marque com um **X**.

( ) Elementos da paisagem natural.

( ) Elementos construídos pelo ser humano.