



PENILAIAN AKHIR TAHUN SEMESTER GENAP
MADRASAH IBTIDAIYAH HIDAYATUL MUBTADIIN DEMPEL
Ds. DEMPEL, Kec. GENENG, Kab. NGAWI
TAHUN PELAJARAN 2020/2021


| | |
|---|--------------------|
| Tema 8 : Daerah Tempat Tinggalku | Nama : |
| Kelas : IV (Empat) | |
| Hari/tgl : | No. Absen : |

Ayo Kita Simak Video Berikut Ini !



Isilah jawaban yang benar dengan huruf A, B, C atau D pada kotak jawab yang tersedia!

PPKN

- Nenek selalu membelikan aku mainan. Aku selalu dimanjakan. Nenekku memiliki sifat
 - pemarah
 - penyayang
 - pendendam
 - penyabar
-  Gambar di samping menunjukkan karakter individu
 - gemar menabung
 - suka menolong
 - menjaga kebersihan
 - giat belajar
- Karakteristik teman di sekolah berbeda-beda karena....
 - berasal dari satu keluarga
 - tinggal satu daerah
 - berbeda kekayaannya
 - berasal dari berbagai daerah
- Setiap siswa memiliki karakteristik yang berbeda-beda. Perbedaan yang ada harus kita ... agar tercipta kerukunan
 - hindari
 - cegah
 - hargai
 - biarkan
- Perhatikan beberapa kegemaran berikut!
 - renang
 - puisi
 - basket
 - bermain alat musikPerbedaan kegemaran dalam bidang seni ditunjukkan oleh angka
 - 1 dan 2
 - 2 dan 3
 - 2 dan 4
 - 3 dan 4
- Gendut, pendek, keriting, sipit adalah contoh keberagaman
 - umur
 - budaya
 - fisik
 - sifat

7. Provinsi Jawa Tengah beribukota di
 - a. surabaya
 - b. surakarta
 - c. semarang
 - d. serang
8. Manfaat dari keragaman, kecuali
 - a. Menambah pengetahuan
 - b. Menambah wawasan
 - c. mempererat persaudaraan
 - d. menimbulkan konflik
9. Contoh keragaman kegemaran adalah
 - a. Warna kulit
 - b. Jenis rambut
 - c. bernyanyi dan bermusik
 - d. petani dan pedagang
10. Persatuan dalam keberagaman dapat terwujud, jika setiap orang saling
 - a. Membenci
 - b. Memusuhi
 - c. toleransi
 - d. acuh tak acuh

BAHASA INDONESIA

11. Di sebuah hutan hiduolah tiga ekor rusa kecil bersama dengan ibunya. Ketiga ekor rusa kecil ini tumbuh besar dengan cepat. Pada suatu hari ibu rusa memberikan mereka saran untuk segera membangun tempat tinggal supaya terlindung dari harimau. Harimau ialah binatang yang sangat ditakuti oleh ketiga ekor rusa ini. Tokoh dalam cerita di atas adalah
 - a. ibu
 - b. rusa
 - c. harimau
 - d. ibu, rusa dan harimau
12. Di suatu pagi yang cerah, ada seekor semut sedang berjalan-jalan di taman. Dengan perasaan yang gembira, semut tersebut berkeliling taman yang indah itu dan menyapa hewan-hewan lain yang juga berada disana. Hingga matanya tertuju pada sebuah kepompong yang sedang menggantung di ranting. Semut mendekati kepompong itu dan berkata, "Kepompong, buruk sekali nasibmu. Sudah jelek dan hanya bisa menggantung di sana, tak bisa melakukan apa-apa. Ayo turun sini dan nikmati taman yang indah ini." Mendengar ejekan semut tersebut, kepompong memilih diam dan tak menanggapi. Watak semut pada cerita di atas adalah....
 - a. baik hati
 - b. pendendam
 - c. pemaarah
 - d. sombong
13. Tokoh yang memiliki watak baik sehingga disenangi dan dikagumi pembaca disebut
 - a. antagonis
 - b. protagonis
 - c. utama
 - d. tambahan
14. Dalam cerita "Bawang Merah dan Bawang Putih" Tokoh antagonis diperankan oleh
 - a. bawang merah
 - b. pangeran
 - c. bawang putih
 - d. ayah bawang putih
15. Kasuari memiliki badan besar dan sayap lebar. Dia mampu terbang tinggi. Namun, Kasuari amat serakah. Dia memetik banyak sekali buah yang telah masak. Buah-buahan itu disembunyikan di bawah sayap-nya sehingga burung-burung lain tidak kebagian. Burung-burung lain mengetahui keserakahan Kasuari. Oleh karena itu, tidak seekor burung pun mau berteman dengannya. Meski demikian, Kasuari tidak mepedulikannya Berdasarkan penggalan cerita di atas. Tokoh utamanya memiliki peran
 - a. protagonis
 - b. antagonis
 - c. tritagonis
 - d. figuran

16.

Sepasang Saudara penyihir


Di sebuah desa yang damai, hiduplah dua saudara kembar yang memiliki kekuatan sihir. Mereka adalah Niko dan Arko. Meski merupakan saudara kembar, namun watak keduanya sangat berbeda. Niko sangat sombong dan angkuh sedangkan Arko anak yang baik hati. Niko memiliki keistimewaan yaitu menguasai sihir lebih banyak daripada Arko sehingga dengan sombongnya selalu memamerkan kemampuannya.

Arko adalah kakak dari Niko selalu melarang adiknya untuk memamerkan kekuatannya kepada teman-temannya atau menggunakan sihir dengan sembarang. Akan tetap Niko selalu mengelak dan mengatakan bahwa Arko iri dengan kemampuan sihirnya. Sikap Niko justru semakin menjadi-jadi, diubahnya semua benda di sekelilingnya menjadi batu termasuk hewan ternak milik keluarganya.

Watak yang sesuai dengan teks di atas yaitu....





- a. Niko rendah hati sedangkan Arko tinggi hati
 - b. Arko rendah hati sedangkan Niko tinggi hati
 - c. Niko dan Arko penyihir yang rendah hati
 - d. Arko dan Niko penyihir yang tinggi hati
17. Cerita yang menceritakan asal usul suatu daerah disebut
- a. legenda
 - b. cerpen
 - c. novel
 - d. fabel
18. Pemeran dalam sebuah cerita disebut
- a. alur
 - b. tema
 - c. tokoh
 - d. latar
19. Cerita di bawah ini yang **bukan** termasuk cerita fiksi adalah
- a. Asal Usul Danau Toba
 - b. Asal Usul Gunung Tangkuban Perahu
 - c. Semut dan Kupu-Kupu
 - d. Cerita Kemerdekaan Indonesia
20. Tokoh yang memiliki sifat berlawanan antar satu tokoh dengan tokoh yang lainnya adalah
- a. Protagonist dan utama
 - b. Protagonist dan antagonis
 - c. Utama dan pembantu
 - d. Utama dan tambahan

IPA

21. Tarikan atau dorongan yang dapat mempengaruhi keadaan suatu benda disebut
- a. gaya
 - b. tenaga
 - c. gerak
 - d. usaha
22.  Gambar di samping menunjukkan adanya gaya....
- a. gesek
 - b. magnet
 - c. grafitasi
 - d. listrik
23. Berikut ini contoh gaya dapat mengubah arah gerak benda adalah
- a. buah jatuh dari pohon
 - b. sopir bus membelokkan bus
 - c. adik mengerem sepeda
 - d. kelereng menggelinding
24. Semakin kasar permukaan benda maka gaya gesek yang dihasilkan semakin
- a. kecil
 - b. besar
 - c. luas
 - d. padat
25. Anak panah dapat melesat dari busurnya karena memanfaatkan gaya
- a. otot
 - b. gesek
 - c. listrik
 - d. pegas

26. Perahu layar dapat bergerak karena adanya gaya yang berupa
- dorongan
 - sentuhan
 - tarikan
 - kaitan
27. Berikut ini adalah hal-hal yang mempengaruhi gerak jatuh benda karena gaya gravitasi, **kecuali**
- harga benda
 - bentuk benda
 - luas permukaan
 - berat benda
28. Contoh gaya dapat mengubah bentuk benda adalah
- Buyung menyundul bola
 - Salosa mengerem sepeda saat di perempatan
 - Wulan mendorong ayunan
 - Ida membuat boneka dari tanah liat
29. Benda yang di tendang dengan lemah akan bergerak
- Cepat
 - Lambat
 - jauh
 - di tempat
30. Contoh gaya dapat mengubah arah gerak benda adalah
- Bola ditendang akan menggelinding
 - Paman membelokkan setang motor ke arah kanan
 - Ibu menekan adonan kue agar tipis
 - Adik menerbangkan pesawat kertas

IPS

31. Kegiatan manusia untuk mencukupi kebutuhannya disebut
- ekonomi
 - produksi
 - distribusi
 - konsumsi
32. Keadaan alam mempengaruhi jenis pekerjaan penduduk, pekerjaan yang bisa dilakukan penduduk yang tinggal di dataran rendah adalah
- berkebun kopi
 - menanam padi
 - pemetik teh
 - pengrajin hiasan kerang
33. Berikut ini adalah pekerjaan yang menghasilkan jasa yaitu
- 
 - 
 - 
 - 
34. Sebagian besar penduduk yang tinggal di pegunungan bermata pencaharian sebagai
- nelayan
 - buruh pabrik
 - petani sayur
 - nahkoda
35. Berikut yang termasuk kegiatan konsumsi adalah
- menjual sate
 - menanam padi
 - menyalurkan sembako
 - makan ayam goreng
36. Orang yang melakukan kegiatan produksi disebut
- produsen
 - konsumen
 - distributor
 - agen
37. Pemanfaatan sumber daya alam untuk kegiatan ekonomi harus
- sampai habis
 - mengutamakan keuntungan
 - tidak merusak alam
 - merusak alam

38. Berikut ini contoh pekerjaan yang menghasilkan barang adalah
- | | |
|--------------|------------|
| a. masinis | c. perajin |
| b. pramugari | d. dokter |
39. Jenis pekerjaan masyarakat desa bersifat
- | | |
|-------------|-------------------|
| a. kompleks | c. bermacam-macam |
| b. modern | d. sederhana |
40. Industri banyak ditemui di daerah
- | | |
|-------------|---------------|
| a. pedesaan | c. pegunungan |
| b. kota | d. pantai |

SBDP

41. Karya seni rupa yang memiliki ukuran panjang, lebar, tinggi dan tebal disebut....
- | | |
|-----------------|------------------|
| a. satu dimensi | c. tiga dimensi |
| b. dua dimensi | d. empat dimensi |
42. Berikut ini bahan untuk membuat seni rupa tiga dimensi, **kecuali**....
- | | |
|----------------|----------------|
| a. bahan cair | c. bahan liat |
| b. bahan lunak | d. bahan keras |
43. Lagu ampar-ampar pisang dinyanyikan dengan tempo....
- | | |
|-------------|---------------|
| a. andante | c. vivace |
| b. moderato | d. allegretto |
44. Salah satu factor yang mempengaruhi tempo lagu adalah ...
- | | |
|-------------------|------------------|
| a. isi lagu | c. pencipta lagu |
| b. suara penyanyi | d. judul lagu |
45. Tari serimpi berasal dari daerah....
- | | |
|---------------|---------|
| a. yogyakarta | c. bali |
| b. surabaya | d. aceh |
46. Penari saman menggunakan properti
- | | |
|-----------|--------------|
| a. rebana | c. selendang |
| b. topeng | d. kipas |
47. Tari tradisional yang diinovasi dengan menyesuaikan gerakan dan properti agar terlihat modern disebut...
- | | |
|---------------------|-------------------|
| a. tari tradisional | c. tari nusantara |
| b. tari kreasi | d. tari modern |
48. Benda-benda di bawah ini yang **bukan** merupakan benda tiga dimensi adalah
- | | |
|------------|--------------|
| a. lukisan | c. vas bunga |
| b. patung | d. meja |
49. Memiliki volume dan ruang adalah ciri dari karya seni
- | | |
|-----------------|------------------|
| a. Dua dimensi | c. empat dimensi |
| b. Tiga dimensi | d. lima dimensi |
50. Dibawah ini yang **bukan** merupakan tari tradisional daerah adalah
- | | |
|-----------------------|---------------|
| a. Tari balet | c. tari kipas |
| b. Tari sekapur sirih | d. tari merak |