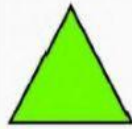




# EVALUACIÓN DE GEOMETRÍA



1. Escribe el nombre, cantidad de lados y vértices de estas figuras planas.



LADOS

VÉRTICES




LADOS

VÉRTICES



LADOS

VÉRTICES



LADOS

VÉRTICES

2. Cuenta el número de figuras planas que hay en el dibujo y escríbelo en su lugar.



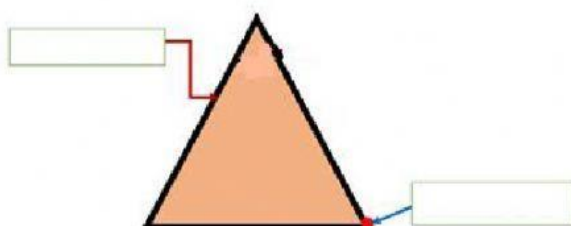
▲	=	<input type="text"/>
●	=	<input type="text"/>
■	=	<input type="text"/>
■	=	<input type="text"/>

3. Une cada objeto con la forma que le corresponde.



4. Arrastra los elementos de la figura según corresponda.

lado      vértice



5. Describe el giro que se realizó en cada caso, uniendo según corresponde.

Giro de media  
vuelta

Giro de vuelta  
Completa.

Giro de un  
cuarto de vuelta



Posición inicial

