



## AVALIAÇÃO BIMESTRAL DE CIÊNCIAS

### 1º BIMESTRE – 2º ANO

ALUNO(A): \_\_\_\_\_

PROFESSORA: \_\_\_\_\_

DATA: 31/05/2021.

1. ESTUDAMOS QUE O NOSSO ENTORNO É CHAMADO DE AMBIENTE. OU SEJA, TUDO À NOSSA VOLTA, FORMADO PELOS SERES VIVOS, ELEMENTOS NÃO VIVOS E CONSTRUÍDOS COMPÕEM UM AMBIENTE. E ESSES **AMBIENTES PODEM SER NATURAIS OU MODIFICADOS.**

OBSERVE COM ATENÇÃO AS IMAGENS ABAIXO E DEPOIS VOCÊ PODE **ESCREVER SE É UM AMBIENTE NATURAL OU MODIFICADO.**

IMAGEM 1




Chapada dos Guimarães, próxima a Cuiabá, estado do Mato.

IMAGEM 3



Bonito, município brasileiro localizado no estado do Mato grosso do Sul.

IMAGEM 2



Lagoa da Pampulha, em Belo Horizonte, estado de Minas Gerais

IMAGEM 4



Guaranésia, município brasileiro, localizado no estado de Minas Gerais.

2) OBSERVE A PINTURA DE TARSILA DO AMARAL E MARQUE UM X NA ALTERNATIVA CORRETA:



☐ ) ESSA PINTURA REPRESENTA UMA CIDADE.

☐ ) NA IMAGEM SÓ APARECEM CONSTRUÇÕES.

☐ ) ESSA PINTURA REPRESENTA O CAMPO.

☐ ) REPRESENTA UMA GRANDE CRIAÇÃO DE GADO.

3) LEIA COM ATENÇÃO A TIRINHA:



O QUE CHICO BENTO ESTÁ TENTANDO FAZER NESSE AMBIENTE?

☐ ) ARRANCAR A MUDA DE ÁRVORE.

☐ ) REFLORESTAMENTO.

☐ ) DESMATAMENTO.

☐ ) FAZER UMA DENÚNCIA DE AGRESSÃO AO AMBIENTE.



4) FAÇA UM X NO QUADRINHO QUE REPRESENTA O QUE O CASCÃO ESTÁ FAZENDO:

- ☐ JOGANDO O LIXO NO CHÃO.
- ☐ ESTÁ PENSANDO NO QUE FAZER COM O LIXO.
- ☐ JOGANDO O LIXO NO LUGAR ADEQUADO.
- ☐ LEVANDO O LIXO PARA CASA.



<http://pt-br.monica.wikia.com>

## BENEFÍCIOS DAS ÁRVORES



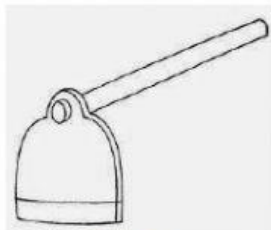
5) NESSA IMAGEM PODEMOS OBSERVAR VÁRIOS BENEFÍCIOS QUE AS ÁRVORES NOS OFERECEM.

REECREVA UM DESSES BENEFÍCIOS QUE VOCÊ CONSIDERA IMPORTANTE:


6) AINDA OBSERVANDO ESSA IMAGEM COLOQUE V PARA VERDADEIRO E F PARA FALSO:

- ( ) AS ÁRVORES SÓ SERVEM PARA DAR FRUTOS .
- ( ) PRODUZEM O AR QUE RESPIRAMOS .
- ( ) PRECISAM SER CORTADAS PORQUE FAZEM SUJEIRA .
- ( ) SERVEM DE ABRIGO PARA OS PÁSSAROS E ANIMAIS .

7) ALGUMAS PESSOAS MORAM NO CAMPO. MARQUE OS OBJETOS QUE SÃO MUITO UTILIZADOS NESSES AMBIENTES:


☐

☐

☐

☐

8) USE O BANCO DE PALAVRAS E COMPLETE A FRASE :

**CIDADES** – **CRIAÇÕES** – **PLANTAÇÕES** – TRÂNSITO – **CONSTRUÇÕES**

AS \_\_\_\_\_ E AS \_\_\_\_\_ SÃO REALIZADAS NO CAMPO. JÁ AS GRANDES  
\_\_\_\_\_ E O \_\_\_\_\_ SÃO ENCONTRADOS NAS \_\_\_\_\_.

9) O SER HUMANO PODE INTREFERIR NO AMBIENTE DE FORMA POSITIVA OU NEGATIVA. ANALISE AS IMAGENS E ESCREVA SE A AÇÃO ESTÁ CERTA OU ERRADA



\_\_\_\_\_



COLOCAR O LIXO EM SACOS PLÁSTICOS E FECHAR BEM.

\_\_\_\_\_



\_\_\_\_\_



JOGAR LIXO NOS CÓRREGOS OU RIOS.

\_\_\_\_\_



ENTERRAR O LIXO (CASO NÃO PASSEM OS COLETORES DE LIXO).

\_\_\_\_\_

10) OBSERVE A IMAGEM E MARQUE A ALTERNATIVA CORRETA QUANTO AO SIGNIFICADO DE AMBIENTE.



☐ SÃO APENAS AS GRANDES CIDADES.

☐ É SÓ O NOSSO BAIRRO.

☐ SÃO SOMENTE AS FLORESTAS.

☐ É TODO O NOSSO ENTORNO.