



COLÉGIO ESTADUAL PROFESSORA OLGA BARRETO
PROFESSOR: **VANESSA COSTA**
ESTAGIÁRIOS: ADRIANA VILANONA NASCIMENTO
THAYNÁ REGINA SANTOS
VANESSA LUCILLA NASCIMENTO SANTOS
DISCIPLINA: **GEOGRAFIA** TURMA: **6º ANO A E B**
ALUNO(A): _____
DATA: **19/05/2021**

ATIVIDADE SOBRE: PAISAGENS, LUGARES E ESPAÇO
GEOGRÁFICO
DAS AULAS NÃO PRESENCIAIS

O QUE É PAISAGEM?

Paisagem é tudo aquilo que nós conseguimos enxergar. Algumas de suas características também são percebidas por meio de sons, odores e movimentos.

A paisagem das cidades são os prédios, as casas, as avenidas movimentadas, os comércios etc.

Quando uma cidade é construída, é feita uma mudança na paisagem que havia naquele local.

Existem dois tipos de paisagens: paisagem natural e paisagem humanizada ou cultural. A paisagem natural é formada pelos elementos naturais: montanhas, cachoeiras, florestas. É uma paisagem natural porque, não tem nenhuma modificação feita pelo homem.

Paisagem Natural



Fonte: <https://www.todamateria.com.br/paisagem-natural/>. Acessado em: 19/05/2021

A paisagem Cultural ou humanizada é aquela que foi modificada pelo homem, na necessidade de construir casas, prédios, fábricas, avenidas. Essas construções que o homem realiza são denominados elementos humanizados.

Paisagem Cultural/Humanizada



Fonte: <http://www.universopolitico.com/22447/portico-do-eduardo-gomes-e-restaurado>.

Acessado em 07/06/2020.

GEOGRAFIA E ESPAÇO GEOGRÁFICO

A geografia é a ciência que estuda o espaço Geográfico.

Espaço Geográfico compreende todos os espaços da superfície terrestre que o ser humano ocupa e transforma direta ou indiretamente por meio de sua relação com a natureza.


LUGAR

Menor porção do espaço geográfico. Assim, pode ser a rua onde você mora, ou até mesmo a sua casa e a fazenda onde você gosta de passar os finais de semana.

O lugar está diretamente ligado à ideia de pertencimento, afeto e percepção.

ATIVIDADE

1ª) Veja a tela da artista Tarsila do Amaral e resolva as atividades a seguir.









Paisagem com touro, Tarsila do Amaral, 1925.

a) Marque com um X a resposta **correta**:

Essa tela mostra uma paisagem:

() da cidade () do campo

2ª) LEVE AS PALAVRAS ATÉ O RETÂNGULO ABAIXO DE CADA IMAGEM DE ACORDO COM A CLASSIFICAÇÃO DE CADA UM ELEMENTO NATURAL OU CULTURAL:

<p>PISCINA</p>  <input type="text"/> NATURAL → CULTURAL	<p>PRAIA</p>  <input type="text"/> NATURAL → CULTURAL	<p>PRÉDIOS</p>  <input type="text"/> NATURAL → CULTURAL
<p>MONTANHA</p>  <input type="text"/> NATURAL → CULTURAL	<p>PEDRAS</p>  <input type="text"/> NATURAL → CULTURAL	<p>CASA</p>  <input type="text"/> NATURAL → CULTURAL