


LEMBAR KERJA PESERTA
DIDIK (LKPD)

“CIRI – CIRI
MAKHLUK HIDUP”



Nama :

No. Absen :

Kelas :

Rifdah Destiara Ramadhani
2227200059

CIRI – CIRI MAKHLUK HIDUP

LEMBAR
KERJA
PESERTA
DIDIK (LKPD)

Satuan Pendidikan : SDN Kutabaru 1
Kelas / Semester : 3/1
Tema : Pertumbuhan dan Perkembangan Makhluk Hidup (1)
Subtema : Ciri – Ciri Makhluk Hidup (1)
Pembelajaran ke : 1
Alokasi Waktu : 1 x 45 Menit

Nama :	Kelas :
Tanggal :	No. absen :

Kompetensi Dasar dan Indikator

o.	Kompetensi Dasar		Indikator Pencapaian Kompetensi
3.3	Memahami dan mengetahui tentang makhluk hidup.	3.3.1	Mampu menjelaskan tentang makhluk hidup dan contoh – contoh makhluk hidup.
4.3	Memahami dan mengetahui tentang ciri – ciri makhluk hidup.	4.3.1	Mampu menjelaskan tentang ciri – ciri makhluk hidup seperti bernapas, bergerak, memerlukan makanan, mengalami pertumbuhan serta berkembang biak.



Tujuan Pembelajaran dan Materi Pembelajaran


Tujuan Pembelajaran

1. Dengan memahami materi makhluk hidup dan ciri – cirinya, peserta didik diharapkan mampu mengetahui tentang makhluk hidup serta mampu menjelaskan apa saja ciri – ciri yang dimiliki makhluk hidup dan contoh dari makhluk hidup tersebut.

Materi Pembelajaran

1. Definisi Makhluk Hidup
2. Ciri – ciri makhluk hidup

Simaklah video berikut!





Setelah menonton video diatas, silakan isi latihan soal dibawah ini!

Ayo Kerjakan



Beri tanda (v) untuk hewan yang berkembang biak dengan cara bertelur.

Beri tanda (x) untuk hewan yang berkembang biak dengan cara melahirkan.





Ayo Mengamati

Ayo amati gambar makhluk hidup dibawah ini. Kemudian pasangkan dengan alat pernapasannya dengan benar dan sesuai!

No.	Makhluk Hidup
1.	
2.	
3.	
4.	

Paru – Paru

Kulit

Insang


Trakea

Ayo Berdiskusi



Diskusikan bersama teman sekelompokmu. Dibawah ini merupakan contoh pertumbuhan makhluk hidup baik tumbuhan, hewan, dan manusia. Urutkan pertumbuhan tersebut dengan benar!

Berikut adalah contoh pertumbuhan hewan. Urutkanlah pertumbuhan hewan ayam dengan benar!



Berikut adalah contoh pertumbuhan tumbuhan. Urutkanlah pertumbuhan tumbuhan dengan benar!



Berikut adalah contoh pertumbuhan manusia. Urutkanlah pertumbuhannya dengan benar!





Pilihlah jawaban yang paling benar pada soal dibawah ini dengan memberi tanda silang (x) pada huruf A, B, C, dan D.

1. Berikut ini yang bukan makhluk hidup adalah...
 - A. Ikan
 - B. Batu kali
 - C. Bunga Mawar
 - D. Manusia

2. Dibawah ini yang termasuk ciri – ciri makhluk hidup adalah...
 - A. Bewarna putih
 - B. Diam di tempat
 - C. Menghadap keatas
 - D. Berkembang biak

3. Ayam dapat bertelur untuk melanjutkan keturunannya. Hal itu adalah ciri – ciri makhluk hidup dengan cara...
 - A. Mengalami Pertumbuhan
 - B. Bernapas
 - C. Berkembang biak
 - D. Bergerak

4. Burung merpati dapat terbang tinggi sekali. Hal itu menunjukkan ciri – ciri bahwa makhluk hidup dapat...
 - A. Bernapas
 - B. Bergerak
 - C. Berkembang biak
 - D. Mengeluarkan zat sisa

5. Berikut ini hewan yang berkembang biak dengan cara bertelur adalah...
 - A. Sapi
 - B. Ayam
 - C. Kelinci
 - D. Beruang