



## ¿CUÁNTOS SON?

UNÍ CON FLECHAS CADA OBJETO CON LA CANTIDAD QUE CORRESPONDA


1



8



10



7



5



2

